

Voortgangstoets 2024

Opleiding: NVOG Toetsen Obstetrie en Gynaecologie

Tijdsduur: 3 uur
Aantal vragen: 156
Gegenereerd op: 29 nov 2024

Inhoud:

Pagina's:

- A. Voorpagina **1**
- B. Vragen **55**
- C. Antwoordformulier **13**
- D. Uitwerking van het antwoord **40**

Voortgangstoets 2024

Opleiding: Toetsen Obstetrie en Gynaecologie

Beste Aios,

Jullie starten zo de voortgangstoets van 2024. De vragen zijn gesorteerd en verdeeld over de 12 EPA's (Entrustable Professional Activities) van LOGO. De vragen toetsen zowel parate kennis als inzicht en het toepassen van kennis. Naast de standaard meerkeuze vragen, wordt de toets afgewisseld met andere type vragen (o.a. sleep-, verbind- en sorteervragen). Je mag geen internet of andere bronnen gebruiken tijdens de toets. Het aantal te behalen punten per vraag is vermeld in de vraag.

Je kunt tijdens de toets heen en weer bewegen tussen vragen. Wanneer je twijfelt over een antwoord en er later nog naar wilt kijken, kun je de vraag ook markeren. Bij het afronden van de toets krijg je dan een herinnering dat je nog een (aantal) vraag hebt gemarkeerd.

Veel succes!

Aantal vragen: 156

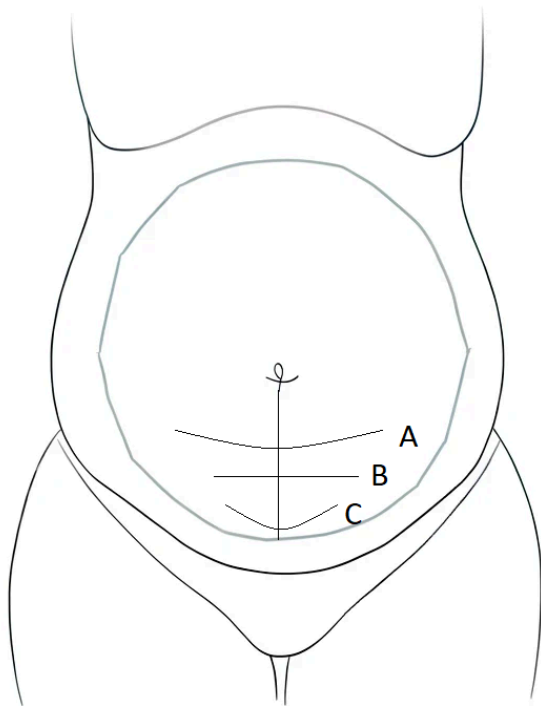
1 In 2023 publiceerde Davis et al. een systematic review en meta-analyse in het AJOG over intrapartum amnioninfusie bij meconiumhoudend vruchtwater.
1 pt.

Welke uitkomsten worden significant minder gezien bij het routinematig toepassen van amnioninfusie bij meconiumhoudend vruchtwater?

Kies de **DRIE** juiste antwoorden.

- a. Vaginale kunstverlossing
- b. NICU-opname
- c. Endometritis
- d. Sectio caesarea
- e. Abruptio placentae
- f. Meconiumaspiratiesyndroom

2 Welke incisie hoort bij welke letter in het plaatje?
1,5 pt.

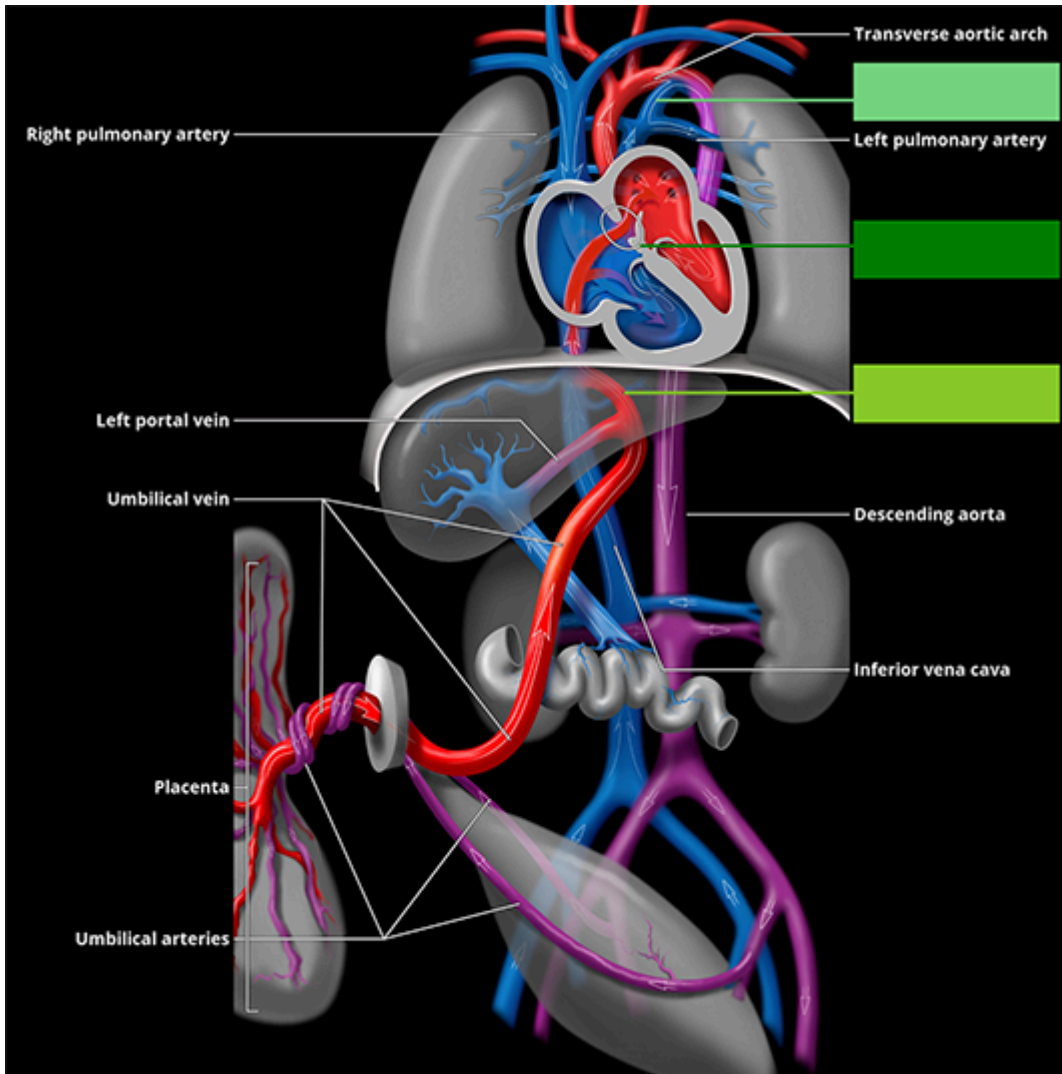


| | | Pfannenstiel | Joel-cohen | Maylard |
|---|---|-----------------------|-----------------------|-----------------------|
| | | A | B | C |
| A | 1 | <input type="radio"/> | <input type="radio"/> | <input type="radio"/> |
| B | 2 | <input type="radio"/> | <input type="radio"/> | <input type="radio"/> |
| C | 3 | <input type="radio"/> | <input type="radio"/> | <input type="radio"/> |

3 Bij het beoordelen van de indaling van het caput durante partu gebruiken we de vlakken van Hodge.
1 pt. Kies de **TWEE** punten waar de lijn van H2 doorloopt.

- a. De bovenrand van de symfyse
- b. De onderrand van de symfyse
- c. Het promontorium
- d. Het SI gewricht
- e. De spinae ischiadicae
- f. Het sacrum

- 4 Een foetus heeft enkele extra verbindingen in de circulatie. Sleep de benaming van de verbinding naar de juiste plaats in de afbeelding.



Ductus arteriosus

Ductus venosus

Foramen ovale

- 5 In 2023 publiceerde Hong et al. een systematic review en meta-analyse met betrekking tot electieve inleiding bij AD 39 weken.
1 pt.

Welke conclusie trokken zij ten aanzien van het risico op derde/vierdegraads perineumletsel?

In de groep vrouwen die electief werden ingeleid bij AD 39 weken was de kans op derde/vierdegraads perineumletsel, vergeleken met de controlegroep:

- a. hoger
- b. lager
- c. gelijk

6 Je bespreekt de modus partus met een vrouw, zwanger van een eenling in stuitligging.
1 pt. Wat is de kans op perinatale sterfte bij een vaginale stuitbevalling van een à terme eenling?

- a. 0,1%
- b. 0,2%
- c. 0,5%
- d. 1%

7 Metzemaekers et al beschrijven in het NTOG in 2023 het probleem van het moeizaam te ontwikkelen caput tijdens een sectio caesarea, het zogenaamde *impacted fetal head*.
1 pt.

Welke techniek is waarschijnlijk geassocieerd met betere neonatale uitkomsten en minder maternale morbiditeit?

- a. Pull-techniek (zoals de Patwardhan methode)
- b. Push-techniek (vaginaal opdrukken)

8 Wat is het risico op een uterusruptuur tijdens een vaginale baring bij een patiënt die tweemaal een sectio in de voorgeschiedenis heeft?
1 pt.

Volgens de NVOG-richtlijn "Beleid bij sectio in de voorgeschiedenis" is de kans:

- a. 1,3%
- b. 2,9%
- c. 4,5%

9 Je wil een vrouw met 1 sectio in de voorgeschiedenis inleiden. Zij heeft een onrijp vaginaal toucher. Een foley plaatsing is niet gelukt.
1 pt.

Wat is de aanbevolen medicamenteuze methode van cervicale rijping volgens de NVOG module 'Beleid bij sectio in de voorgeschiedenis'?

- a. Misoprostol (Angusta ®) vaginaal
- b. Misoprostol (Angusta ®) oraal
- c. Dinoproston gel (Prostin ®) vaginaal

- 10** Een zwangere vrouw, gravida 1 para 0, met een amenorroeduur van 34 weken en 5 dagen, wordt opgenomen met prematuur gebroken vliezen. Zij is niet in partu. Er zijn geen tekenen van een infectie. De GBS-status is onbekend.

1 pt.

Welke overwegingen bespreek je over de voor- en nadelen van antibiotica conform de richtlijnmodule "Profylactisch antibiotica bij preterm pre-labour rupture of membranes (PPROM)"?

Kies de **TWEE** juiste antwoorden.

Antibiotica geeft:

- a. een lagere op kans op neonatale sterfte.
- b. een bewezen negatief effect op het neonatale microbioom.
- c. 33% minder kans op een neonatale infectie.
- d. een gunstig effect op de hersenontwikkeling bij echoscopie van de neonaat.

- 11** Welke aanvullende maatregelen dienen te worden overwogen bij vrouwen met obesitas, conform de richtlijnmodule "Zwangerschap bij obesitas"?

1 pt.

Kies de **TWEE** juiste antwoorden:

- a. Verlengde antibiotica in geval van sectio
- b. Consult anesthesioloog
- c. Primaire epidurale pijnstilling
- d. Routine tromboseprofylaxe

- 12** De handgreep van Küstner wordt gebruikt om na te gaan of de placenta postpartum los ligt.

Als de placenta los ligt in het onderste uterussegment,

(a) **A.** komt de navelstreng naar buiten **B.** wordt de navelstreng naar binnen getrokken (0,5 pt.) en is de handgreep (b) **A.** negatief **B.** positief (0,5 pt.).

- 13** Hoe hebben prostaglandinen invloed op het veroorzaken van uteruscontracties bij de baring?

1 pt.

Prostaglandinen:

- a. geven downregulatie van de progesteronreceptoren
- b. geven upregulatie van oxytocinereceptoren
- c. verhogen de oxytocinerelease vanuit de hypofyse achterkwab
- d. verlagen de release van progesteron vanuit de placenta

- 14** In welk echelon dient de prenatale zorg plaats te vinden bij een zwangerschap na IVF/
1 pt. ICSI-behandeling, volgens de NVOG richtlijn basis prenatale zorg 2022?
De zorg dient plaats te vinden in de:
- a. eerste lijn
 - b. tweede lijn
 - c. derde lijn
- 15** Wat is het standpunt van de NVOG met betrekking tot het CTG in de 1e lijn?
1 pt.
- a. Er is ruimte voor CTG's in de 1e lijn, mits in een samenwerkingsverband zoals een Integrale Geboortezorg Organisatie (IGO).
 - b. Er is er geen ruimte voor verplaatsing van antenatale CTG's naar de 1^e lijn.
- 16** Heeft een euthyreote zwangere vrouw met positieve TPO schildklierantistoffen indicatie voor
1 pt. behandeling met levothyroxine?
- a. Nee
 - b. Ja
- 17** Bij een tweede trimester structureel echoscopisch onderzoek (TTSEO) is de grens voor een
abnormale bevinding voor het foetale pyelum (a) **A. $\geq 4\text{mm}$** **B. $\geq 7\text{mm}$** **C. $\geq 10\text{mm}$** (0,5 pt.) en
voor de foetale laterale ventrikel (b) **A. $\geq 10\text{mm}$** **B. $\geq 12\text{mm}$** **C. $\geq 15\text{mm}$** (0,25 pt.).
- 18** Preconceptioneel komt een vrouw op je spreekuur die een gastric bypass operatie heeft ondergaan.
1 pt. Wat is je advies t.a.v. hoe lang ze niet zwanger mag worden?
- a. 3 maanden
 - b. 6 maanden
 - c. 12 maanden
 - d. 18 maanden

- 19**
1 pt. In 2023 publiceerden D'Antonio et al een meta-analyse en systematic review over plaatsing van cerclages in verband met cervixlengteverkorting <25mm of ontsluiting bij tweelingzwangerschappen.
Cervical cerclage for prevention of preterm birth and adverse perinatal outcome in twin pregnancies with short cervical length or cervical dilatation: A systematic review and meta-analysis. D'Antonio et al, PLoS Med, 2023.
- Wat concludeerden zij met betrekking tot de kans op vroeggeboorte <34 weken? De kans op vroeggeboorte na plaatsing van een cerclage, vergeleken met het niet plaatsen van een cerclage, was:
- a. hoger
 - b. lager
 - c. gelijk
- 20**
1 pt. Vanaf welke week van de zwangerschap verhoogt het werken van nachtdiensten het risico op slechte zwangerschapsuitkomsten?
- Nachtdiensten verhogen het risico op slechte zwangerschapsuitkomsten vanaf:
- a. 3 weken
 - b. 7 weken
 - c. 12 weken
 - d. 20 weken
- 21**
1 pt. Wat is per 1 januari 2023 de verplichte minimale bedenktijd voor afbreking van een zwangerschap < 22 weken?
- a. Minimale bedenktijd afhankelijk van de amenorroeduur
 - b. Minimale bedenktijd 5 dagen
 - c. Geen minimale bedenktijd

22 Rangschik onderstaande diagnoses van meest frequent naar minst frequent voorkomend in de zwangerschap.
1 pt.

1 Zwangerschapscholestase

2 Atypisch hemolytisch uremisch syndroom

3 Acute fatty liver of pregnancy

4 Preeclampsie

23 Wanneer adviseer je zwangere vrouwen met diabetes type 2 of diabetes gravidarum direct te starten met insuline?
1 pt.

Bij een nuchtere glucose hoger dan:

- a. 5.3 mmol/l
- b. 7.0 mmol/l
- c. 8.5 mmol/l
- d. 11.0 mmol/l

24 Je counselt een zwangere vrouw met een derdegraads ruptuur in de anamnese voor een volgende baring.

Volgens de NVOG richtlijn totaalruptuur 2024:

is de kans op het later optreden van anale incontinentie (a) **A. afhankelijk** **B. onafhankelijk** (0,5 pt.)
van de graad van de ruptuur (3A, 3B, 3C of 4);
bovendien vermindert een sectio bij de komende partus de kans op anale incontinentie op de lange termijn (b) **A. niet** **B. wel** (0,5 pt.).

25 Bij 2% van de zwangere vrouwen mislukt de Niet-Invasieve Prenatale Test (NIPT) door een te lage foetale fractie.
1 pt.

Wat is de aangewezen volgende stap wanneer de NIPT tweemaal mislukt vanwege een lage foetale fractie?

- a. Een derde NIPT
- b. Verwijzing voor Geavanceerd Ultrageluids Onderzoek type 2 (GUO 2)
- c. Verwijzing voor counseling voor invasieve diagnostiek

26
1 pt.



Bij een foetus wordt bovenstaand echobeeld gezien van één nier.

Wat is de meest waarschijnlijke diagnose?

- a. Multicysteuze nierdysplasie
- b. Polycysteuze nierdysplasie
- c. Hydronefrose

27 1 pt. Hoeveel lichaamsbeweging per week adviseert de richtlijn "Obesitas tijdens de zwangerschap" aan zwangere vrouwen met obesitas?

- a. 100 minuten
- b. 150 minuten
- c. 200 minuten

28 Welke veranderingen optredend tijdens de zwangerschap zijn diabetogeen?

Er is een (a) A. Toename B. Afname (0,25 pt.) van insulineresistentie, een

(b) A. Toename B. Afname (0,25 pt.) van progesteron, een

(c) A. Toename B. Afname (0,25 pt.) cortisol en een (d) A. Toename B. Afname (0,25 pt.) van humaan placentair lactogeen.

- 29** Bij dreigende vroeggeboorte wordt vaak een kuur corticosteroiden gegeven. Als de vrouw niet bevalt maar op een later moment ontstaat er hernieuwde dreiging is een tweede kuur een optie.

Een tweede kuur mag gegeven worden als zich vóór amenorroeduur

(a) **A. 31 weken B. 32 weken C. 33 weken D. 34 weken** (0,5 pt.) een tweede periode voordoet, mits de eerste kuur gegeven werd vóór amenorroeduur

(b) **A. 26 weken B. 28 weken C. 30 weken** (0,5 pt.) en het interval tussen de kuren tenminste 10-14 dagen is.

- 30** Je counselt een zwangere vrouw met een derdergraads ruptuur in de anamnese voor een volgende baring.

Volgens de NVOG richtlijn "Totaalruptuur" is de kans op het optreden van anale incontinentie na een volgende derdegraads ruptuur (a) **A. even hoog B. hoger** (0,5 pt.) als na één derdegraads ruptuur, en

verlaagt een mediolaterale episiotomie de kans op herhaling van (b) **A. 12 B. 10 C. 8** (0,5 pt.) % naar (c) **A. 5 B. 3 C. 1** (0,5 pt.) %.

- 31** Een zwangere vrouw wordt verwezen voor het bespreken of zij in aanmerking komt voor tromboseprofylaxe.
1 pt.

Zij heeft zelf een heterozygote factor V Leiden. Ze heeft nog nooit een veneuze trombo-embolie (VTE) gehad. Haar familie-anamnese is negatief voor VTE.

Wat is het aanbevolen beleid ten aanzien van tromboseprofylaxe?

- a. Geen profylaxe
- b. Alleen postpartum profylaxe gedurende 6 weken
- c. Antepartum én 6 weken postpartum profylaxe

32 Je bent betrokken bij de opvang van een zwangere vrouw na een neuro-trauma. Bij binnenkomst heeft zij haar ogen dicht, maar doet deze open op aanspreken. Ze geeft verward antwoord op je vragen.

1 pt.

Wat is haar AVPU-score?

- a. A
- b. V
- c. P
- d. U

33 Wat was het effect van het aanbieden van seriële echo biometrie in een populatie met een laag risico op groeivertraging, volgens de IRIS studie?

1 pt.

Effectiveness of routine third trimester ultrasonography to reduce adverse perinatal outcomes in low risk pregnancy (the IRIS study): nationwide, pragmatic, multicentre, stepped wedge cluster randomised trial. Henrichs et al. BMJ. 2019.

Het aanbieden van standaard extra echo's in het derde trimester vergeleken met de gebruikelijke zorg leidt tot:

- a. betere perinatale uitkomsten
- b. betere maternale uitkomsten
- c. gelijke uitkomsten voor zowel moeder als kind

34 Vul bij dreigende vroeggeboorte, waarbij een vaginale partus wordt nagestreefd, voor de volgende beleidsopties in. Het gaat erom tot welke welke zwangerschapsduur dit beleid wordt geadviseerd.

Ga uit van de NVOG-richtlijn "Dreigende vroeggeboorte" en van de richtlijn "Reanimatie en ondersteuning van de transitie van het kind direct na de geboorte" van de Nederlandse Reanimatie Raad.

- Tocolyse (a) **A. 30 weken B. 32 weken C. 34 weken D. 37 weken** (0,25 pt.)

- Corticosteroïden (b) **A. 30 weken B. 32 weken C. 34 weken D. 37 weken** (0,25 pt.)

- Antibiotica (bij onbekende GBS-status)

(c) **A. 30 weken B. 32 weken C. 34 weken D. 37 weken** (0,25 pt.)

- Magnesiumsulfaat ter foetale neuroprotectie

(d) **A. 30 weken B. 32 weken C. 34 weken D. 37 weken** (0,25 pt.)

- Opvang in zak (e) **A. 30 weken B. 32 weken C. 34 weken D. 37 weken** (0,25 pt.)

- Geboorte in NICU-centrum (f) **A. 30 weken B. 32 weken C. 34 weken D. 37 weken** (0,25 pt.)

35 Een monochoriale diamniotische tweeling wordt geboren. Een van de neonaten heeft een polycytemie en de andere heeft een ernstige anemie. Het aantal reticulocyten is gelijk in beide neonaten.

1 pt.

Wat is de meest waarschijnlijke oorzaak?

- a. Acute peripartum Tweeling Transfusie Syndroom (TTS)
- b. Tweeling Anemie Polycythemie Sequentie (TAPS)
- c. Twin Reversed Arterial Perfusion (TRAP)

36 Voor inleiding vanaf welke termijn counsel je een GBS positieve patiënte volgens de richtlijnmodule "Inleiding van de baring bij PPRM en GBS dragerschap"?

1 pt.

- a. 34 weken
- b. 35 weken
- c. 36 weken
- d. 37 weken

37 De diagnose antifosfolipidensyndroom kan worden gesteld op basis van de aanwezigheid van tenminste 1 laboratoriumcriterium en tenminste 1 klinisch criterium.

De klinische criteria zijn:

- één of meer onverklarde dood van een morfologisch normale foetus na

(a) **A. 10 B. 16 C. 24 D. 34** (0,5 pt.) weken zwangerschapsduur

of

- één of meer vroeggeboortes van morfologisch normale neonaten voor de

(b) **A. 30e B. 32e C. 34e D. 37e** (0,5 pt.) week van de zwangerschap door ernstige pre-eclampsie of ernstige placenta insufficiëntie

of

- drie of meer opeenvolgende spontane miskramen voor de 10^e week van de zwangerschap

38 De interne sfincter van de anus bestaat uit

(a) **A. glad spierweefsel B. dwarsgestreept spierweefsel** (0,5 pt.). Deze zorgt met name voor de

(b) **A. rusttonus B. knijpkracht** (0,5 pt.) van het sfinctercomplex. Bij onderzoek ziet de interne sfincter er (c) **A. witter B. roder** (0,5 pt.) uit dan de externe sfincter.

39 Wat zijn de meest voorkomende complicaties bij zwangerschap na een eiceldonatie?

1,5 pt.

Kies de **DRIE** juiste opties.

- a. Bloedverlies in eerste trimester
- b. Sectio
- c. Zwangerschapsdiabetes
- d. Zwangerschapshypertensie
- e. Liggingsafwijkingen

40 De Highlow studie onderzocht zwangere vrouwen met een diep veneuze thrombose (DVT) in anamnese. Patiënten kregen óf laag gedoseerde óf gewichtsgecorrigeerde dosis laag molecuair gewicht heparines (LMWH).

1 pt.

Intermediate-dose versus low-dose low-molecular-weight heparin in pregnant and post-partum women with a history of venous thromboembolism (Highlow study): an open-label, multicentre, randomised, controlled trial. Bistervels et al, Lancet 2022.

Laaggedoseerde LMWH gaf ten opzichte van gewichtsgecorrigeerde dosis LMWH

- a. lagere kans op DVT
- b. gelijke kans op DVT
- c. hogere kans op DVT

41 De Drigitat studie deed onderzoek naar de timing van een inleiding op basis van dopplers bij zwangerschappen met verdenking op foetale groeirestrictie.

Wat waren de conclusies van de onderzoekers van deze studie?

Een laag *Estimated Fetal Weight* (EFW) percentiel en afwijkende *umbilico-cerebral ratio* (UCR) verhogen het perinataal risico (a) **A. wel** **B. niet** (0,5 pt.). Inleiden tussen 34-36 weken op basis van een afwijkende UCR gaf in deze studie (b) **A. wel** **B. niet** (0,5 pt.) een significant betere neonatale uitkomst.

42 Welke middelen hebben de voorkeur voor behandeling van hypertensie in de postpartum periode?

1 pt.

Kies de **TWEE** juiste antwoorden.

- a. Een ACE-remmer zoals enalapril®
- b. Een alfablokker zoals methyldopa®
- c. Een betablokker zoals labetalol®
- d. Een angiotensine-II-blocker zoals losartan®
- e. Een diureticum zoals furosemide®
- f. Een calciumantagonist zoals nifedipine®

43 Wat is de meest voorkomende verwekker van mastitis in de kraamperiode?

1 pt.

- a. Escherichia Coli
- b. Stafylococcus Aureus
- c. Groep A streptococ
- d. Klebsiella Pneumoniae

44 Wat is de kans op een endometritis na een secundaire (intrapartum) sectio caesarea na toediening van antibioticaprofylaxe?

1 pt.

Deze kans ligt het dichtst bij:

- a. 2%
- b. 4%
- c. 7%

45 Één dag na een ongecompliceerde sectio ontwikkelt een kraamvrouw forse buikpijn. Bij onderzoek blijkt er sprake te zijn van een opgezette buik met hoorbare peristaltiek bij auscultatie. Een CT-scan toont een forse dilatatie van het coecum tot 9,7cm.

1 pt.

Wat is de meest waarschijnlijke diagnose?

- a. Ogilvie syndroom
- b. Strengileus
- c. Opiaat-geïnduceerde obstipatie
- d. Paralytische ileus

46 Wat is de PEARL index van volledige borstvoeding als de vrouw nog niet gemenstrueerd heeft sinds de bevalling?
1 pt.

- a. 0,1 per 100
- b. 2 per 100
- c. 10 per 100
- d. 40 per 100

47 Welke behandelingen zijn bewezen zinvol bij een posttraumatische stress stoornis (PTSS) na een als traumatisch ervaren bevalling?
1 pt.

Kies de **TWEE** juiste antwoorden.

- a. Relatietherapie
- b. Psychoanalyse
- c. Cognitieve Gedrags Therapie (CGT)
- d. Eye Movement Desensitisation Reprocessing (EMDR)
- e. Medicamenteuze behandeling, zoals antidepressiva
- f. Acceptance and Commitment Therapy (ACT)

48 Je verdenkt een kraamvrouw van longembolie.

1 pt. Wanneer is er volgens de YEARS criteria een indicatie voor CT scan?

Kies de **TWEE** juiste antwoorden.

- a. Bij 0 YEARS criteria en een d-dimeer van 800 ng/mL
- b. Bij 0 YEARS criteria en een d-dimeer van 1500 ng/mL
- c. Bij 1 YEARS criterium en een d-dimeer van 400 ng/mL
- d. Bij 1 YEARS criterium en een d-dimeer van 900 ng/mL

49 De MIRA-studie was een RCT naar endometriumablatie versus levonorgestrel-IUD bij hevig menstrueel bloedverlies.
1 pt.

Welke uitkomst was significant verschillend in het voordeel van endometriumablatie in de lange termijn follow up (6-9 jaar)?

- a. Het aantal chirurgische re-interventies
- b. De kwaliteit van leven
- c. Het seksueel functioneren

50 Welke behandelmogelijkheden staan op de keuzekaart 'veel bloedverlies tijdens ongesteld zijn'?
1 pt. Kies de **VIJF** juiste antwoorden.

- a. Baarmoederslijmvlies weghalen
- b. Medicamenteus de overgang in
- c. Vleesboom verwijdering
- d. Anticonceptiepil
- e. Embolisatie
- f. Baarmoeder verwijdering
- g. Medicijnen zonder hormonen
- h. Hormoonspiraaltje

51 Tot welke doorsnede van een submuceus myoom kan een hysteroscopische resectie overwogen worden?
1 pt.

- a. 3 cm
- b. 4 cm
- c. 5 cm
- d. 6 cm

52 Welke factoren zijn geassocieerd met een verhoogd risico op chirurgische re-interventie na een endometriumablatie?
1 pt.

Kies de **DRIE** juiste antwoorden

- a. Jonge leeftijd
- b. Uteruslengte <10cm
- c. Sterilisatie
- d. Nullipariteit
- e. Dysmenorroe
- f. Perimenopauze

53 Welk middel wordt geadviseerd voorafgaand aan een hysterectomie om volumereductie te bewerkstelligen volgens de richtlijn laparoscopische hysterectomie voor benigne indicaties?
1 pt.

- a. Ulipristal (Esmya®)
- b. Relugolix/estradiol/norethisteron (Ryeqo®)
- c. Leuproreline (Lucrin®)

54 Je ziet een patiënt met hevig menstrueel bloedverlies op de polikliniek, waarbij je counselt voor een operatieve ingreep.
1 pt.

Welk lichamenlijk en/of aanvullend onderzoek is geïndiceerd?

Kies de **DRIE** juiste antwoorden.

- a. Hb-bepaling
- b. Transvaginale echo
- c. Speculum onderzoek
- d. Endocrinologisch onderzoek
- e. Bimanueel onderzoek van de uterus

55 Hoeveel meisjes en vrouwen (12-25 jaar) kampten met menstruatie-armoede, volgens een onderzoek van Plan International in 2019 in Nederland?
1 pt.

- a. 1 op de 10 vrouwen
- b. 1 op de 20 vrouwen
- c. 1 op de 30 vrouwen
- d. 1 op de 40 vrouwen

56 Bij hoeveel procent van de vrouwen die klagen over hevig menstrueel bloedverlies is er daadwerkelijk sprake van hevig menstrueel bloedverlies (>80 ml/menstruatie)?
1 pt.

- a. 20-30
- b. 40-50
- c. 60-70

57 In welke structuur loopt de arteria epigastrica inferior?
1 pt.

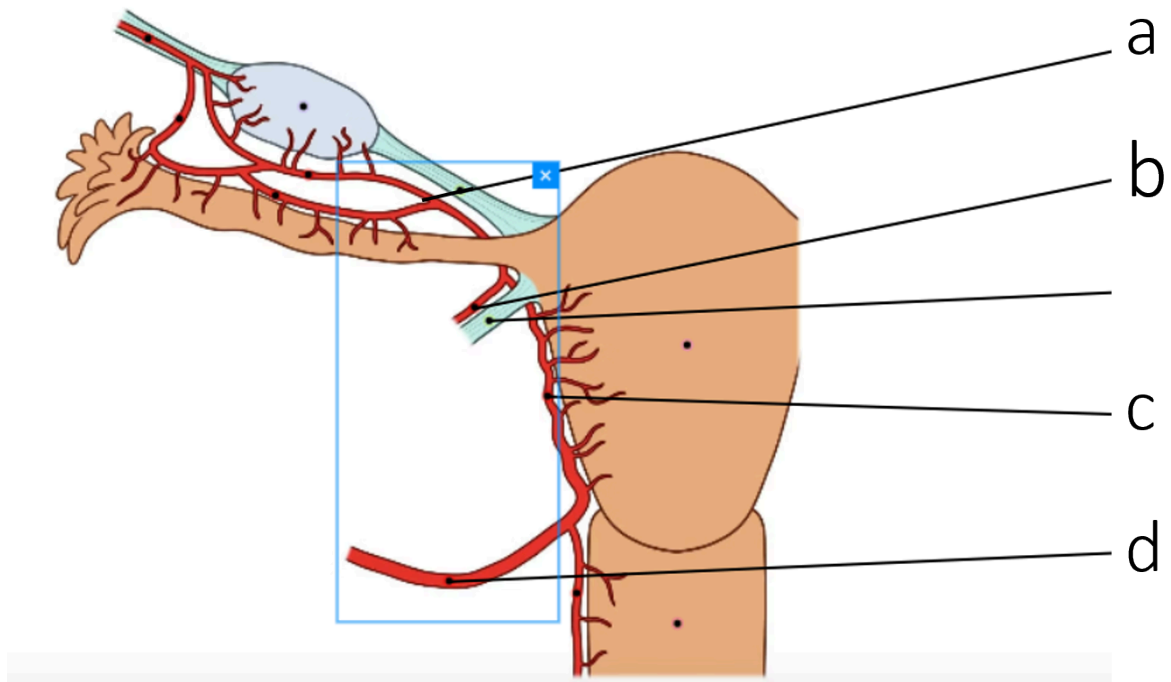
Ligamentum umbilicale

- a. laterale
- b. mediale
- c. mediane

58 Welk type myoom zit volledig intramuraal?
1 pt.

- a. Type 2
- b. Type 3
- c. Type 4
- d. Type 5

59
1 pt.



Welke letter verwijst naar de arterie van Sampson?

- a. A
- b. B
- c. C
- d. D

60
1 pt. Hoeveel groter is het risico op expulsie van een IUD bij gelijktijdig gebruik van een menstratiecup vergeleken met vrouwen die geen menstratiecups gebruiken?

- a. 3x groter
- b. 5x groter
- c. 7x groter

61
1 pt. Wat is de meest voorkomende oorzaak van hevig vaginaal bloedverlies net na de menarche?

- a. Endometriumatrofie
- b. Stollingsstoornis
- c. Uterusanomalie
- d. Anovulatie

- 62** U overweegt een behandeling van hevig menstrueel bloedverlies bij een patiënt met uterus myomatosus met Ulipristal.
1 pt.
- Aan welke criteria moet deze patient voldoen om in aanmerking te komen voor deze behandeling?
Kies de **DRIE** juiste antwoorden.
- a. Zij moet matig tot ernstige symptomen hebben van de uterus myomatosus.
 - b. Zij kon hormonale behandelingen niet verdragen.
 - c. Embolisatie en/of chirurgische behandeling zijn niet geschikt of hebben gefaald.
 - d. Zij moet premenopauzaal zijn.
 - e. Zij moet op de wachtlijst staan voor myomectomie.
- 63** Je ziet op de poli iemand met hevig menstrueel bloedverlies.
1 pt.
- Welke **DRIE** items zijn essentieel in je anamnese?
- a. Factoren als pijn en schaamte
 - b. Of de klacht al bestaat sinds de menarche
 - c. Vermoeidheid
 - d. Bloedverlies met stolsels
- 64** Wat is een cornuale zwangerschap?
1 pt.
- Een zwangerschap in:
- a. het proximale deel van de tuba ingebed in de spierwand van de uterus
 - b. een rudimentaire uterushoorn
 - c. het distale deel van de tuba
- 65** Welke bepaling wordt aanbevolen in het kader van onderzoek naar een verklaring van herhaalde miskraam?
1 pt.
- a. Vitamine D
 - b. Homocysteïne
 - c. TSH
 - d. Midluteaal progesteron

- 66** Wat is de medische indicatie voor chirurgische behandeling van een miskraam?
1 pt.
- a. Herhaalde miskraam
 - b. Anemie
 - c. Verhoogd bloedingsrisico
 - d. Niet intacte gemelli graviditeit
- 67** Hoe worden de kosten van een abortus provocatus in een abortuskliniek betaald in Nederland?
1 pt.
- a. De kosten vallen onder het basis pakket van de zorgverzekering, maar vrouwen betalen wel het eigen risico.
 - b. De kosten worden vergoed vanuit een aanvullend pakket en daarvoor geldt geen eigen risico.
 - c. Abortusklinieken krijgen de kosten vergoed via een subsidieregeling van de overheid.
- 68** Bij een Rhesus negatieve vrouw stelt u een niet intacte graviditeit vast op basis van een transvaginale echo waarbij de CRL 35 mm is. In welk geval is anti-D Rhesus profylaxe geïndiceerd?
1 pt.
- a. Medicamenteuze behandeling van de miskraam < 10 weken zwangerschapsduur
 - b. Alle gevallen met CRL > 35 mm
 - c. Spontane miskraam bij zwangerschapsduur > 10 weken
- 69** De Nederlandse Vereniging voor Obstetrie en Gynaecologie (NVOG) heeft haar steun uitgesproken voor het Abortus Manifest van de Vrije Keuze Coalitie (28 september 2023).
1 pt.
- Waar pleit dit manifest voor?
- a. De verwijdering van abortus uit het Wetboek van Strafrecht.
 - b. Misoprostol toegankelijk maken zonder recept of de tussenkomst van een arts.
 - c. De abortuszorg via de 1ste lijn huisarts of verloskundige.

70 Op het spreekuur komt een vrouw na een geslaagde adhesiolyse bij het syndroom van Asherman.

1,33 pt. Welk risico heeft zij ten aanzien van een toekomstige zwangerschap?
Kies de **VIER** juiste antwoorden.

- a. Abnormale placentatie
- b. Diabetes gravidarum
- c. Vroeggeboorte
- d. Groeirestrictie
- e. Hypertensieve aandoeningen
- f. Fluxus post partum

71 Een eicel zonder erfelijk materiaal wordt bevrucht door een spermacel.

1 pt. Hoe heet de zwangerschap die daaruit ontstaat?

- a. Partiële mola
- b. Complete mola
- c. Lege vruchtzak

72 De PRISM studie toonde geen verschil in behandeling met progesteron versus placebo in de kans op een levend geboren kind bij vrouwen met bloedverlies in het eerste trimester. Een subgroep analyse toonde een voordeel van progesteron bij één specifieke groep.

Coomarasamy A, Harb HM et al. Progesterone to prevent miscarriage in women with early pregnancy bleeding: the PRISM RCT. Health Technol Assess. 2020 Jun;24(33):1-70. doi: 10.3310/hta24330

Vul verder in:

Bij vrouwen met bloedverlies in het 1^e trimester én (a) **A. 2 B. 3 C. 4 D.** (0,5 pt.) of meer miskramen, kan progesteron de kans op een levendgeboren kind vergroten. Dan is de aanbeveling om 2dd (b) **A. 200 B. 400 C. 600 D.** (0,5 pt.) mg progesteron voor te schrijven.

73 Hoe wordt foliumzuur ook wel genoemd?

1 pt.

- a. Vitamine A
- b. Vitamine B6
- c. Vitamine B11
- d. Vitamine B12

74 Een patiënt met een zwangerschap op onbekende locatie (ZOL) had bij het eerste bezoek geen klachten, bij echo geen afwijkingen en het hCG was 250 IU/L.
1 pt.

U ziet patiënt nu 48 uur na het eerste consult. Zij heeft nog steeds geen klachten. Bij transvaginale echo ziet u verdikt endometrium, geen aanwijzingen voor intra uteriene graviditeit, geen ectopic mass en geen vrij vocht. Het hCG is nu 100 IU/L.

Wat is uw vervolg stap?

- a. Echo en serum-hCG wekelijks herhalen tot <5 IE/L
- b. Echo en serum-hCG herhalen na 48 uur (T=96)
- c. Behandeling met methotrexaat
- d. Alleen HCG vervolgen
- e. Einde follow up

75 Wat wordt geadviseerd bij vrouwen met erfelijke trombofilie ter voorkoming van herhaalde miskraam?
1 pt.

- a. Behandeling met een lage dosis aspirine (75-100mg)
- b. Behandeling met LMWH (low molecular weight heparin)
- c. Behandeling met zowel LMWH (low molecular weight heparin) als een lage dosis aspirine (75-100mg)
- d. Geen medicamenteuze behandeling

76 Welk pessarium kan blijven zitten tijdens coïtus?

1 pt.

- a. Ring pessarium met ondersteuningsvlak
- b. Donut
- c. Gellhorn
- d. Kubus

77 De LAVA-trial vergeleek anatomisch recidief na primaire prolapsoperatie voor uteriene prolaps stadium 2 of hoger na laparoscopische sacrohysteropexie of sacrospinale fixatie.
1 pt.

Wat was de uitkomst na 12 maanden?

- a. Non-inferieur
- b. Niet non-inferieur

78 Een 20 jarige patiënte wordt ingestuurd vanwege een constante pijn in de onderbuik, frequente mictie en dysurie. Zij is reeds behandeld met een antibiotica kuur.

1 pt.

Urine stick laat alleen een lichte proteinurie zien. SOA testen zijn negatief. Urinekweek ook negatief.

Wat is een toenemend probleem onder jongeren met bovenstaande klachten en hoort thuis in je differentiaal diagnose?

- a. Somatisch onvoldoende verklaarde lichamelijke klachten (SOLK)
- b. Ketamine geïnduceerde urotheelschade
- c. Recidiverende urineweg infecties
- d. Pelvic inflammatory disease (PID)
- e. Endometriose

79 In de Richtlijn 'Urine-incontinentie (UI) 2e- en 3e-lijnszorg' is er een algoritme 'diagnostiek en conservatieve behandeling'.

1 pt.

Wat zijn, naast de routine workup urine incontinentie, redenen voor verdere analyse?

Kies de **DRIE** juiste antwoorden.

- a. Gemengde urine incontinentie
- b. Hematurie
- c. Vulvo-vaginale atrofie
- d. Pijn
- e. Eerdere radiotherapie op het bekken

80 Wat is een reden om een pad test te verrichten bij de diagnostiek van urine-incontinentie?

1 pt.

- a. Onderscheid maken tussen stress- en urge incontinentie
- b. Het resultaat van therapie voorspellen
- c. Kwantificering van de urine incontinentie
- d. Urineweginfectie

81 John DeLancey beschreef de drie 'levels of support' van de bekkenbodern.

1 pt.

Welk level wordt behandeld als de vaginatop wordt gesuspendeerd met een operatie?

a. 1

b. 2

c. 3

82 De 'Pelvic Organ Prolapse-Quantification' (POP-Q) is het objectief in kaart brengen van het meest verzakte punt van de prolaps en van welk compartiment deze uitgaat.

1 pt.

Bij welke POPQ is er sprake van een elongatio colli?

a.

| | | |
|--|--|--|
| Aa -3 anterior wall | Ba -1 anterior wall | C -6 cervix or cuff |
| gh 4 genital hiatus | pb 3 perineal body | tvL 9 total vaginal length |
| Ap -2 posterior wall | Bp -2 posterior wall | D -7 posterior fornix |

b.

| | | |
|--|---|---|
| Aa -3 anterior wall | Ba -3 anterior wall | C -2 cervix or cuff |
| gh 3 genital hiatus | pb 2 perineal body | tvL 10 total vaginal length |
| Ap -1 posterior wall | Bp 0 posterior wall | D -4 posterior fornix |

c.

| | | |
|--|--|--|
| Aa -3 anterior wall | Ba -3 anterior wall | C -1 cervix or cuff |
| gh 4 genital hiatus | pb 3 perineal body | tvL 9 total vaginal length |
| Ap -2 posterior wall | Bp -2 posterior wall | D -7 posterior fornix |

83 Na een sacrospinale fixatie van de vaginatop of uterus kan er pijn in de bil aanwezig zijn door prikkeling van een zenuw.

1 pt.

Welke zenuw?

Nervus:

- a. genitofemoralis
- b. pudendus
- c. obturatorius

84 Welke risicofactoren spelen een rol bij het ontstaan van sfincterletsels bij de baring?

1,33 pt.

Kies de **VIER** juiste antwoorden.

- a. Obesitas
- b. Baringshouding
- c. Toename hoofdomvang neonaat
- d. Toenemende duur uitdrijvingsfase
- e. Zwangerschapsduur
- f. Afrikaanse of Aziatische ethniciteit
- g. Bekkenbodentraining
- h. Primipariteit

85 Los van het verhogen van de kwaliteit van leven, kan een chirurgische behandeling voor stress-urine incontinentie ook een 'groene' keuze zijn.

1 pt.

Op welke R van de niveaus van circulariteit heeft incontinentiechirurgie de meeste invloed?

- a. Reduce (gebruik minder grondstoffen)
- b. Repair (onderhoud en reparatie)
- c. Recover (energie terugwinnen)
- d. Refuse (weigeren)

86 Wat is de meest effectieve behandeling van interstitiële cystitis (blaaspijnsyndroom) ten aanzien van pijnintensiteit en patiënttevredenheid?
1 pt.

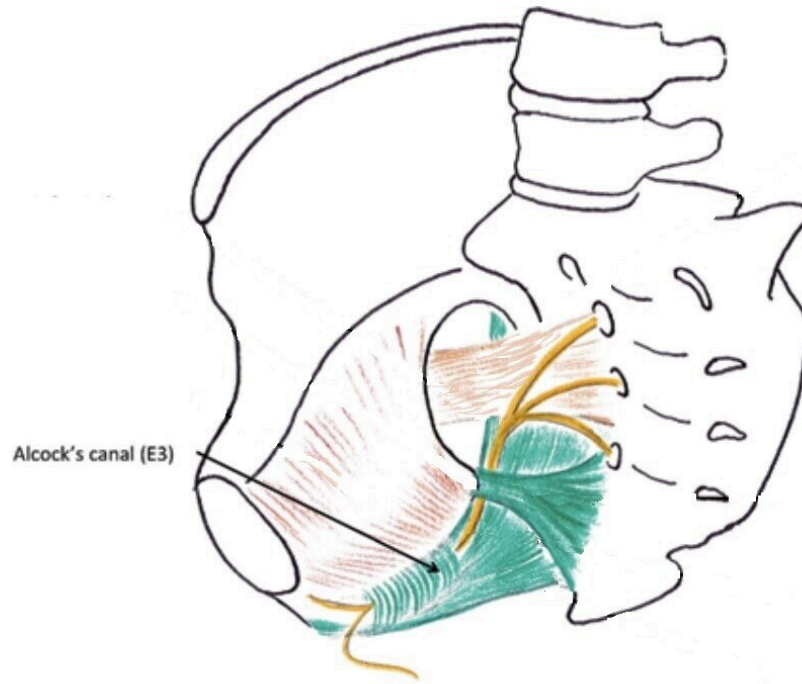
- a. Tolterodine
- b. Amitriptyline
- c. Nitrofurantoin onderhoudsdosering

87 De SAM studie vergeleek de gemodificeerde manchester fothergill (MMF) met de sacrospinale fixatie (SSF) van de uterus voor primaire prolapsoperatie. De primaire uitkomst was een samengestelde uitkomst op anatomie, prolapsgevoel en opnieuw behandeling na 2 jaar.
1 pt.

Wat was de uitkomst?

- a. MMF had slechtere uitkomst dan SSF.
- b. SSF had slechtere uitkomst dan MMF.
- c. Er is geen verschil tussen MMF en SSF.

88 Welke zenuw loopt door het kanaal van Alcock?
2 pt.



De nervus:

- a. ischiadicus
- b. genitofemoralis
- c. pudendus
- d. femoralis

89 Er is een correlatie tussen de hoogte van de BMI en de kans op het ontwikkelen van een niche. Met hoeveel procent stijgt de kans op het ontwikkelen van een niche bij een punt stijging van het BMI?
1 pt.

- a. 1
- b. 6
- c. 12
- d. 18

90 In 2023 publiceerden Ten Buuren et al. een cross-sectioneel onderzoek naar patiënt voorkeuren voor disposable en reusbale specula en de bereidheid een concessie te doen voor het milieu. Zij vroegen naar comfort, kosten voor de gezondheidszorg en afvalreductie.

1 pt.

Patient preferences for disposable and reusable vaginal specula and their willingness to compromise in the era of climate change: a cross-sectional study. AA. Ten Buuren, TB Poolman et al. BJOG <https://doi.org/10.1111/13>.

Hoeveel procent van de vrouwen vond afvalreductie het minst belangrijk in het kader van verbetering van de gezondheidszorg?

- a. 10
- b. 30
- c. 50
- d. 70

91 U verricht een echo ter beoordeling van een cysteus vergroot ovarium volgens de IOTA beoordeling.

1 pt.

Welke instelling gebruikt u voor het beoordelen van de flow?

- a. PRF (Pulse Repetition Frequency) 0,3-0,6 kHz
- b. PRF (Pulse Repetition Frequency) 0,8-1,0 kHz
- c. Gain zo hoog mogelijk
- d. Gain zo laag mogelijk

92 Wat is een equivalent van gegeneraliseerde spontane vulvodynie?

1 pt.

- a. Somatische symptoomstoornis met vulvaire of genitale pijn
- b. Vulvair vestibulitis syndroom
- c. Genitopelviene pijn- en penetratiestoornis
- d. Overactief bekkenbodemsyndroom

93 Een vrouw met acute pijn in de onderbuik presenteert zich op de SEH. De zwangerschapstest is negatief.
1 pt.

Onder welke voorwaarde is nu een gynaecologisch spoedconsult geadviseerd volgens de richtlijn acute buikpijn bij volwassenen?

Indien:

- a. Er op basis van anamnese een verdenking is op een gynaecologische diagnose.
- b. Na beeldvorming er verdenking is op een urgente gynaecologische diagnose.
- c. Het een vrouw in de vruchtbare leeftijd betreft.

94 Wanneer is de Ca 125 bepaling van toegevoegde waarde volgens de ESHRE guideline Endometriosis?
1 pt.

- a. Om pre-operatief de diagnose te stellen
- b. Nooit
- c. Wanneer histologie van de laesies negatief is voor endometriose, ter ondersteuning van de diagnose
- d. Om de ernst van de ziekte te volgen na start behandeling

95 Voor de behandeling van een pelviene actinomycose dient bij voorkeur gestart te worden met penicilline intraveneus gedurende 2 tot 6 weken.
1 pt.

Is het nodig om daarna oraal verder te behandelen?

- a. Nee, dat is niet nodig
- b. Ja, gedurende 2-3 maanden met penicilline per os
- c. Ja, gedurende 6-12 maanden met penicilline per os

96 Je gaat een patiënt opereren in verband met endometriose. Geeft een preoperatieve hormonale behandeling een verbetering in uitkomst wat betreft pijn?
1 pt.

- a. Ja
- b. Nee

97 In 2018 is er een grootschalig Nederlands onderzoek naar onder andere seksuele pijn onder jongeren gepubliceerd.
1 pt.

Graaf, H. de, Van den Borne, M., Nikkelen, S., Twisk, D., & Meijer, S.. Seks onder je 25e: Seksuele gezondheid van jongeren in Nederland anno 2017. NTVG 2018;162:D2734

Hoeveel procent van de meisjes en jonge vrouwen tussen de 12 en 25 jaar gaf aan vaak pijn te hebben tijdens de seks met "behoorlijke last"?

- a. 5
- b. 15
- c. 25
- d. 35

98 Een arts doet voor hoe hij percuteert met de middelvinger van de rechterhand op de middelvinger van de linkerhand. Daarbij rust de linkerhand op het lichaam van de patient.
1 pt.

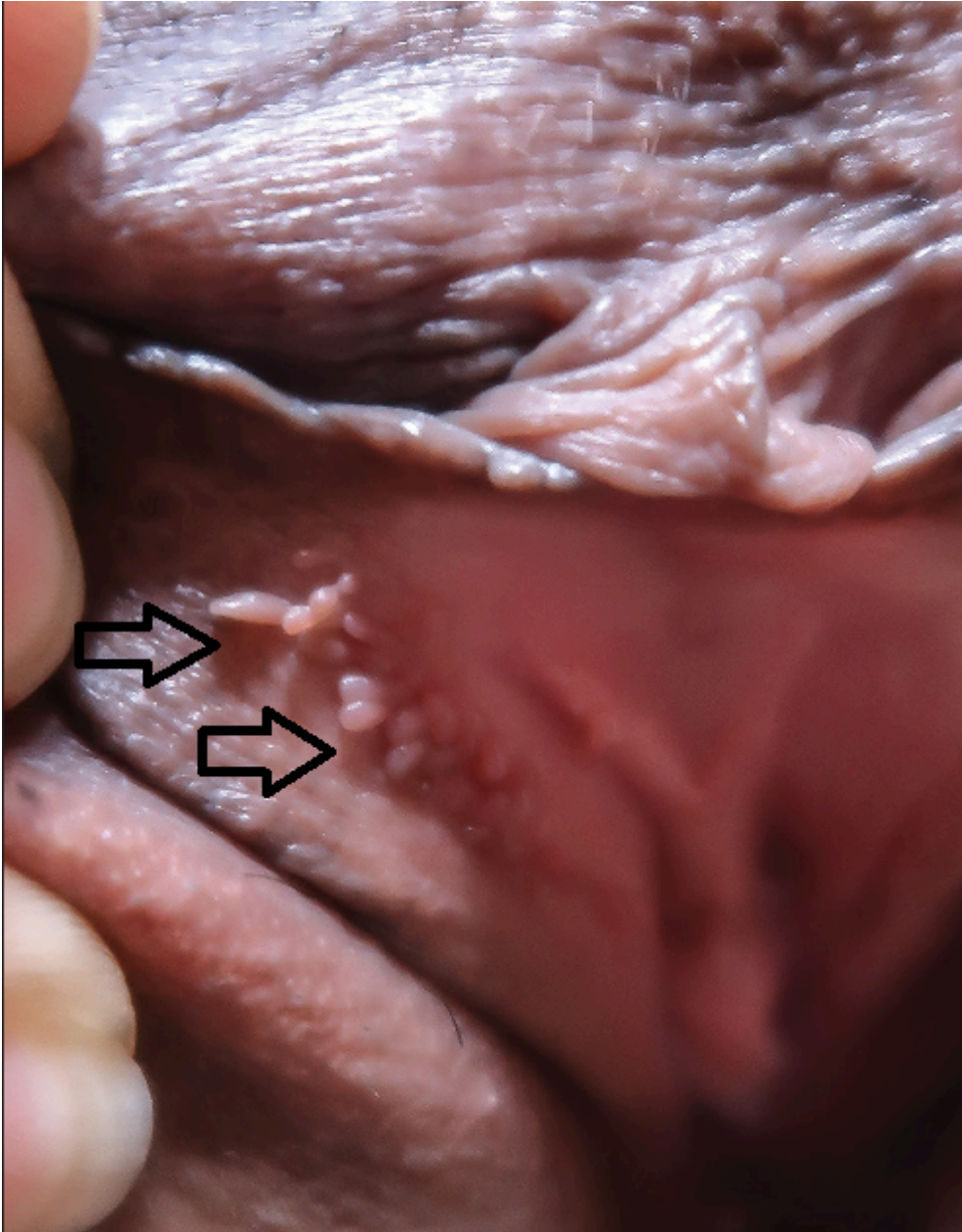
Wat voor druk geeft hij op de vingers van de linkerhand?

- a. Stevige druk op de middelvinger, niet op de andere vingers
- b. Stevige druk op de middelvinger, ook op de andere vingers
- c. Vrijwel geen druk op de middelvinger, ook niet op de andere vingers
- d. Vrijwel geen druk op de middelvinger, wel druk op de andere vingers

99 Welke **TWEE** behandelingen van endometriose gerelateerde pijn bij adolescenten beschouwt de ESHRE richtlijn als eerste keuze?
1 pt.

- a. NSAIDs
- b. Orale anticonceptie
- c. GnRH analoga
- d. Progestativa (systemisch of in een levonorgestrel IUD)

100 Je ziet een patiënt met onderstaand beeld van de vulva.
1 pt. Wat dien je haar te adviseren?



- a. Imiquimod
- b. Excisie
- c. Geen behandeling
- d. Podofyllotoxine

101 Bij differentiated VIN (dVIN) is, gezien de beperkte ervaring en onzeker beloop, verwijzing naar een centrum met speciale expertise in vulvopathologie geïndiceerd.
1 pt.

Wat is het percentage dVIN in alle VIN laesies?

- a. 0,2
- b. 2,5
- c. 12

102 Welke vulvaire klacht staat op de voorgrond bij lichen simplex chronicus?
1 pt.

- a. Droogheid
- b. Pijn
- c. Jeuk

103 Een patiënt komt met een zwelling in het lieskanaal. Deze cyste reikt tot in het labium majus en is niet mobiel, niet reponeerbaar en pulseert niet.
1 pt.

Wat is dit voor een cyste?

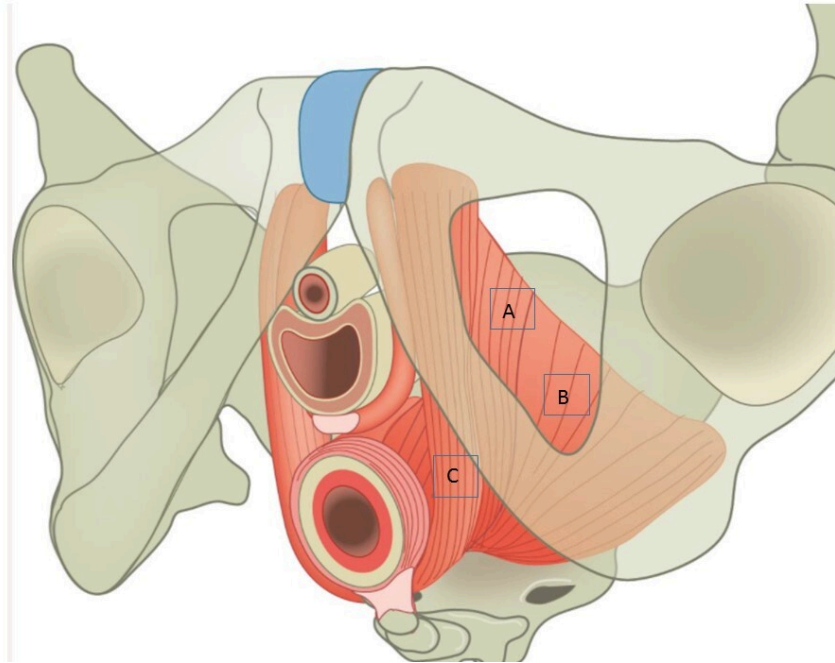
- a. Bartholin
- b. Nuck
- c. Skene
- d. Gartner

104 De uitwendige geslachtsorganen van mannen en vrouwen zijn verschillend, maar hebben ook overeenkomsten in bouw (homologe organen).
1 pt.

Wat is het vrouwelijke homologe orgaan van de penis?

- a. Labia majora
- b. Glans clitoridis
- c. Labia minora

105
2 pt.



Welke letter geeft de m. iliococcygeus van de levator ani aan?

- a. A
- b. B
- c. C

106 Uit het biopt van een scherp begrenste laesie van het labium minus rechts van uw patiente komt lichen planus, waarvan jaarlijkse controle is geïndiceerd.

1 pt.

Welke andere plek heeft verhoogde kans dat zich er lichen planus bevindt en dient u te onderzoeken?

- a. Buik
- b. Onderbeen
- c. Mondslimvlies

107 Zorgverleners die patiënten met HPV gerelateerde aandoeningen behandelen hebben risico op transmissie. Hu et al. hebben bij 700 gynaecologen onder andere een uitstrijk uit de neus genomen.
1 pt.

Hu et al. Prevalence of HPV infections in surgical smoke exposed gynecologists. International Archives of Occupational and Environmental Health (2021) 94:107-155.

Wat is het verschil in prevalentie van HPV tussen gynaecologen die wel en geen neus-mondmasker gebruiken tijdens de behandeling?

- a. 4 versus 18%
- b. 10 versus 15%
- c. 2 versus 10 %
- d. 8 versus 24%

108 Een patiënt gebruikt Imiquimod® voor de behandeling van een CIN 2.

1 pt. Hoeveel maanden na start van de behandeling wordt volgens de NVOG richtlijn CIN, AIS, VAIN geadviseerd om opnieuw cytologie af te nemen?

- a. 3 maanden
- b. 6 maanden
- c. 9 maanden
- d. 12 maanden

109 De diagnose vulvaire HSIL (high grade squamous intraepithelial lesions) wordt gesteld door middel van een biopt. Bij multifocale laesies moet er een vulvaire mapping plaatsvinden.

1 pt.

Welk aanvullend onderzoek behoort verder plaats te vinden?

- a. Vulvoscopie met azijnzuur
- b. Cervixcytologie en inspectie vagina en anus
- c. Proctoscopie

110 Een complete mola verschilt van een partiële mola.

1,75 pt. Welke kenmerken horen waar in de tabel?

| | | Complete mola | Partiele mola |
|--|---|-----------------------|-----------------------|
| | | A | B |
| Hoog hCG | 1 | <input type="radio"/> | <input type="radio"/> |
| Hydropische villi | 2 | <input type="radio"/> | <input type="radio"/> |
| Diploïd karyotype | 3 | <input type="radio"/> | <input type="radio"/> |
| Embryo aanwezig | 4 | <input type="radio"/> | <input type="radio"/> |
| 15% Risico Gestational Trophoblastic Neoplasia | 5 | <input type="radio"/> | <input type="radio"/> |
| Milde focale trofoblast hyperplasie | 6 | <input type="radio"/> | <input type="radio"/> |
| Triploïd karyotype | 7 | <input type="radio"/> | <input type="radio"/> |

111 Een 28 jarige vrouw met een CIN 2 in het cervixbiopt kiest na shared decision making voor vaginale behandeling middels Imiquimod.

1 pt.

Wat dien je haar over het gebruik hiervan te vertellen?

Het voorschrift schema bij vaginaal gebruik is:

- a. 16 weken 3 keer per week
- b. 16 weken 2 keer per week
- c. 20 weken 3 keer per week
- d. 20 weken 2 keer per week
- e. 3 keer per week totdat de dysplasie verdwenen is

112
1 pt.



Je verricht lichamelijk onderzoek en ziet deze cervix.
Hoe dien je dit te beschrijven?

- a. Ectropion
- b. Ovulum van Naboth
- c. CIN laesie

113 De meerderheid van de patiënten met een vulvaire hooggradige squameuze intra-epitheliale laesie (vHSIL) heeft jeuk en/of pijn aan de vulva.
1 pt.

Welke items zijn obligaat in de anamnese?

Kies de **TWEE** juiste antwoorden.

- a. Roken
- b. Klachten perianale regio
- c. Klachten mucosa mond
- d. Alcohol gebruik
- e. Seksuele oriëntatie

114 Een vrouw zit in de follow up van een behandelde CIN 3. Zij is momenteel 10 weken zwanger en krijgt de oproep voor de follow up middels cytologie en HPV.
1 pt.

Wat dien je te adviseren ten aanzien van de follow up?

- a. Afname uitstellen tot na de zwangerschap
- b. Afname nu conform follow up schema

115 Een zwangere vrouw, met een amenorroeduur van 10 weken, krijgt vanwege vaginaal bloedverlies een uitstrijkje. De uitslag is een pap 3B (P6 C1), HPV positief.
1 pt.

Wat is het advies naar aanleiding van deze uitslag volgens de richtlijn CIN, AIS, VAIN, module 'zwangeren'?

- a. De smear dient herhaald te worden na de zwangerschap.
- b. Een colposcopie dient uitgevoerd te worden door een ervaren colposcopist.
- c. Een colposcopie dient alleen uitgevoerd te worden bij een macroscopisch afwijkende cervix bij lichamelijk onderzoek.

- 116** Een huisarts belt voor advies naar aanleiding van een uitslag van de smear in het kader van het BVO.
1 pt. Patiënt heeft geen klachten. De uitslag is:

Microscopie

K1, endocervicale cilindrische cellen aanwezig

O3, er wordt een bacteriele infectie gezien

P4, celbeeld passend bij geringe dysplasie

A1, geen andere afwijkingen

C1, geen afwijkingen van endocervicale cilindrische cellen

B1, voldoende beoordeelbaar

Aanvullend onderzoek

HPV bepaling: hr-HPV positief anders dan type 16,18

Test HPV BVO: BD Onclarity? HPV Assay

Classificatie

PAP-klasse: Pap 3a1

Bethesda: laaggradige squameuze intra-epitheliale neoplasie (LSIL)

Wat dien je te adviseren ten aanzien van de follow up middels smear afname?

- a.** Over 6 maanden in de 1ste lijn
- b.** Over 6 maanden in de 2de lijn
- c.** Over 5 jaar via het bevolkingsonderzoek
- d.** Geen smear, maar insturen voor kolposcopie
- e.** Over 12 maanden in de 2de lijn
- f.** Over 12 maanden in de 1ste lijn

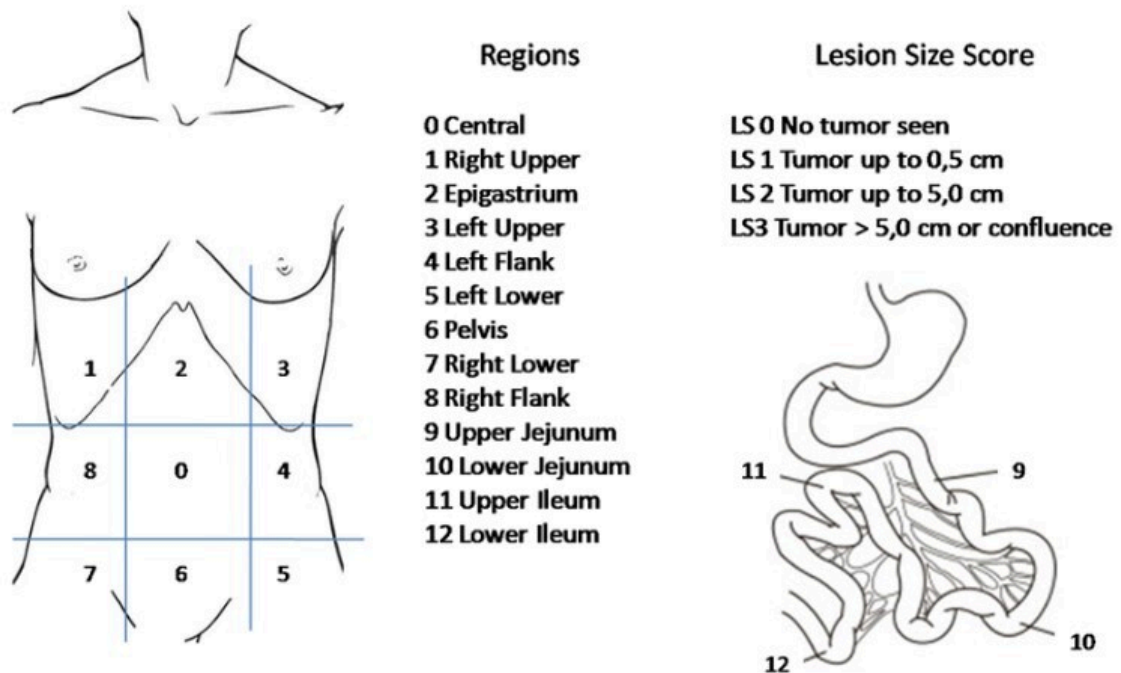
117 Bij vrouwen met ovariumcarcinoom dienen volgens de Tumor-First test de genen met predispositie voor ovariumcarcinoom te worden geanalyseerd. Conform de richtlijn erfelijk ovariumcarcinoom betreft dit:

1,5 pt.

Kies de **ZES** juiste antwoorden

- a. PMS 2
- b. RAD 51C
- c. MEN 1
- d. BRCA2
- e. CDH 1
- f. BRCA1
- g. BRIP1
- h. MSH 6
- i. CHEK 2
- j. RAD 51D
- k. PALB2
- l. MLH 1
- m. MSH 2

- 118** Er worden verschillende modellen gebruikt om in te schatten hoe groot de kans is op een complete debulking bij patiënte met ovariumcarcinoom.
1 pt.



Bij welke model hoort bovenstaande afbeelding?

- a. Peritoneal cancer index (PCI)
 - b. Eisenkop
 - c. Predictive Index Value (PIV)
 - d. Fagotti modified
- 119** Een 47-jarige vrouw presenteert zich met abnormale vaginale bloedingen en wordt gediagnosticeerd met een FIGO IB1 cervixcarcinoom. U overweegt behandelingsopties op basis van de resultaten van de SHAPE-trial te bespreken.
1 pt.

Deze gerandomiseerde studie onderzocht of de toepassing van een simpele hysterectomie een Wertheim procedure kan vervangen..

Het verrichten van een simpele hysterectomie bij een FIGO 1B1 cervixcarcinoom heeft:

- a. een lagere kans op pelviene recidieven.
- b. geen invloed op pelviene recidieven.
- c. een hogere kans op pelviene recidieven.

120 In de workup van patienten met een cervixcarcinoom wordt zowel het onderzoek in narcose (OIN) als diffusie gewogen MRI gehanteerd, onder andere ter detectie van parametranne betrokkenheid.

De sensitiviteit voor het vaststellen van parametrium betrokkenheid bedraagt voor het OIN

(a) **A. 50%** **B. 90%** (0,5 pt.) en voor diffusie gewogen MRI (b) **A. 50%** **B. 90%** (0,5 pt.).

121 In een gerandomiseerde studie werden patiënten met een recidief ovariumcarcinoom behandeld op basis van alleen een stijging van het CA-125 of na het optreden van klinische symptomen.
1 pt.

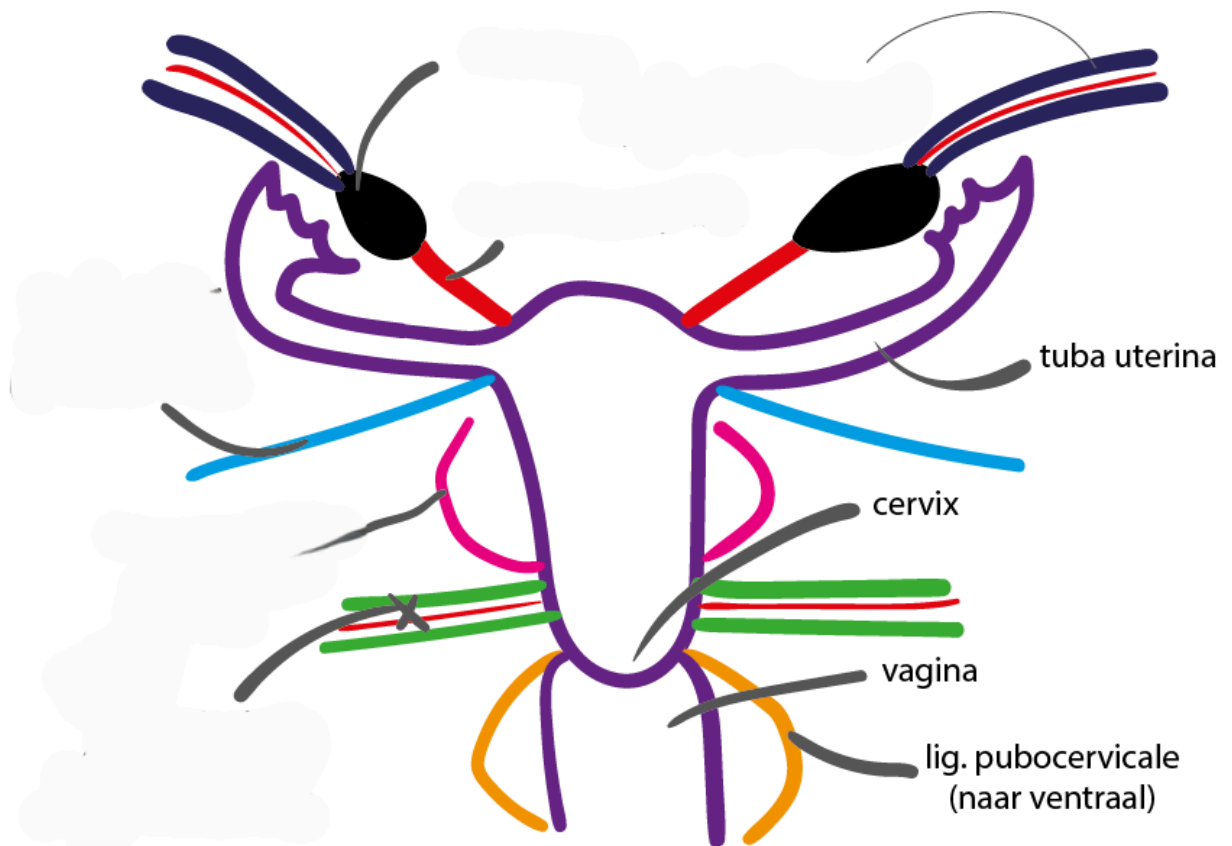
Gordon J S Rustin. Early versus delayed treatment of relapsed ovarian cancer (MRC OV05/EORTC 55955): a randomised trial. Lancet, 2010.

Een verlate behandeling waarbij gewacht wordt op klinische verschijnselen resulteerde in:

- a. een betere kwaliteit van leven
- b. meer chemotherapeutische behandelingen
- c. een slechtere kwaliteit van leven
- d. een kortere overleving

122 Sleep de naam naar de anatomische structuur die hierbij past.

"Ligamenten uterus" by Friso Jansen, LUMC, license: CC BY-NC-SA



lig. cardinale
(naar lateraal)
(bevat a./v. uterina)

lig. teres uteri
(lig. rotundum)

lig. ovarii proprium

lig. sacro-uterina

lig. suspensorium ovarii

123 Welk aanvullend onderzoek vraagt u aan bij een patiënt met een unifocaal macro invasief plaveiselcelcarcinoom van de vulva, afmeting maximaal 2 cm?
1 pt.

- a. MRI kleine bekken
- b. X-thorax
- c. Echo liezen
- d. CT-thorax/abdomen

124 Bij de diagnose GTN (Gestational Trophoblastic Neoplasia) zijn verschillende vormen van chemotherapie mogelijk afhankelijk van de risicoclassificatie FIGO 2000.
1,5 pt.

Geef in onderstaand schema aan welke vorm van chemotherapie toegepast kan worden bij laag en hoog risico GTN.

| | | Methotrexaat | Actinomycine D | EMA/CO (Etoposide, Methotrexaat, Actinomycin-D, Cyclofosfamide, Oncovin) |
|-------------|---|--------------------------|--------------------------|--|
| | | A | B | C |
| Laag risico | 1 | <input type="checkbox"/> | <input type="checkbox"/> | <input type="checkbox"/> |
| Hoog risico | 2 | <input type="checkbox"/> | <input type="checkbox"/> | <input type="checkbox"/> |

125 In een systematische review en meta analyse werd ERAS (Enhanced recovery after surgery) binnen de gynaecologische oncologie gepubliceerd.
1 pt.

Bisch et al, Outcomes of enhanced recovery after surgery (ERAS) in gynecologic oncology - A systematic review and meta-analysis. Gynecologic Oncology 161 (2021) 46-55.

Implementatie van ERAS binnen de gynaecologische oncologie leidt tot:

Kies de **VIER** juiste antwoorden

- a. Minder gewichtsverlies
- b. Kortere opname duur
- c. Lagere kosten
- d. Minder heropnames
- e. Minder 30 dagen mortaliteit
- f. Meer patiënttevredenheid
- g. Lager risico op trombose
- h. Minder complicaties

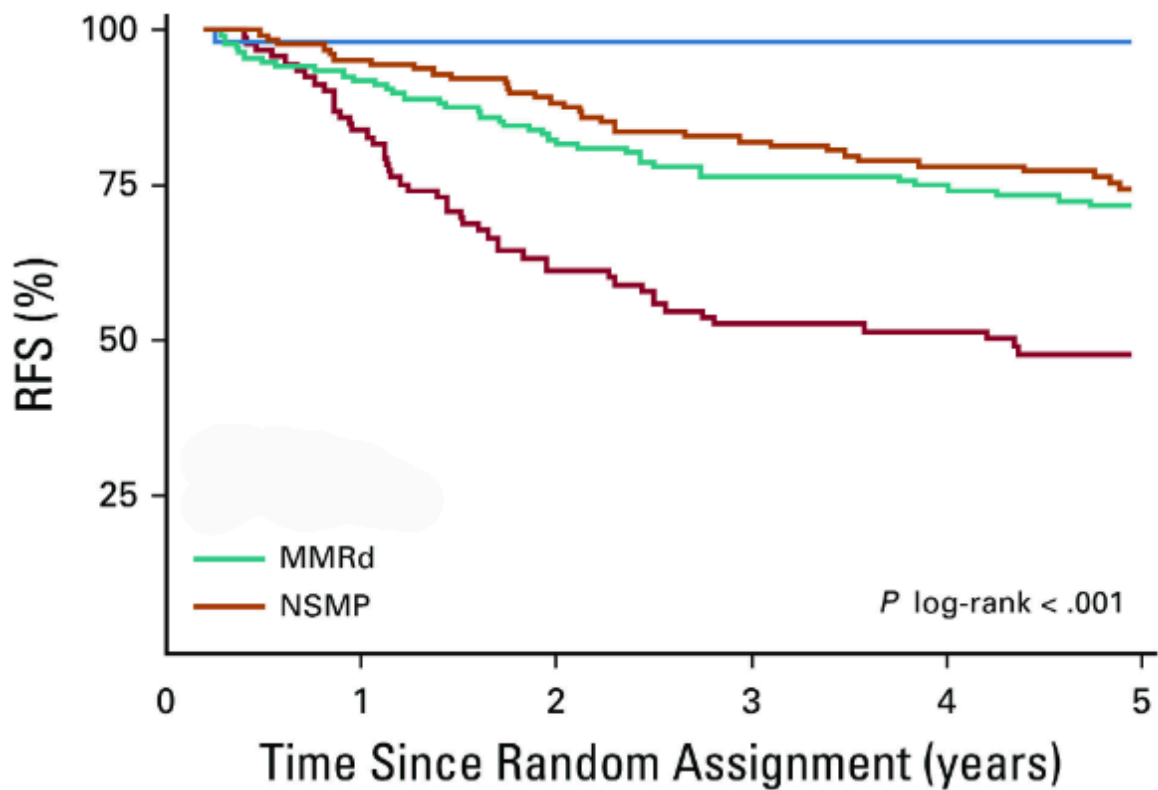
126 De PORTEC 3 studie laat zien dat de verschillende moleculaire subtypes een sterk voorspellende waarde hebben op de kans op recidief endometrium carcinoom

Er wordt onderscheid gemaakt tussen de volgende vier moleculaire subtypes:

- p53-abnormal (p53abn)
- POLE-ultramutated (POLEmut)
- mismatch repair-deficient (MMRd)
- no specific molecularprofile (NSMP) EC

Verbind het juiste submoleculaire subtype met de juiste Kaplan Meier curve.

Molecular Classification of the PORTEC-3 Trial for High-Risk Endometrial Cancer: Impact on Prognosis and Benefit From Adjuvant Therapy. León-Castillo et al. J Clin Oncol. 2020.



p53abn

POLEmut

127 Een 45-jarige patiënt met het Lynch syndroom met MSH6 mutatie wordt gecounseld over een profylactische hysterectomie.

1 pt.

Wat dien je te bespreken ten aanzien van haar ovaria?

- a. Adviseer geen risico reducerende salpingo- oöphorectomie
- b. Adviseer wel een risico reducerende salpingo- oöphorectomie

128 Welke bloedvaten kunt u tegenkomen bij een liesklierdissectie?

1 pt.

Kies de **DRIE** juiste antwoorden.

- a. Vena Saphena magna
- b. Arteria iliaca externa
- c. Vena femoralis
- d. Arteria femoralis
- e. Arteria obturatorius

129 Een paar heeft een kinderwens. Zij is 37 jaar, para 0 en heeft een blanco voorgeschiedenis. Hij is 49 jaar en 6 jaar geleden gesteriliseerd.

1 pt.

Wat is de behandeling van eerste keuze?

- a. ICSI met microchirurgische epididymale sperma aspiratie (MESA)
- b. Vaso-epididymostomie
- c. ICSI met percutane epididymale sperma aspiratie (PESA)
- d. Vaso-vasostomie

130 Tot welke leeftijd worden de kosten van de eerste drie IVF/ICSI puncties vanuit de basisverzekering vergoed?

1 pt.

- a. 41 jaar
- b. 42 jaar
- c. 43 jaar
- d. 44 jaar

131 Welke bevindingen van het lichamelijk onderzoek passen bij PCOS?

1 pt.

Kruis de **TWEE** juiste antwoorden aan.

- a. Vergrote clitoris
- b. Acné
- c. Striae
- d. Lokatie overbeheading

132 Welke diagnose is het meest waarschijnlijk bij een azospermie en een lage pH waarde van het ejaculaat?

1 pt.

- a. Congenitale bilaterale afwezigheid vas deferens (CBAVD)
- b. Deletie AZFc regio op het Y-chromosoom
- c. Syndroom van Klinefelter
- d. Syndroom van Kallmann

133 Wat is het middel van eerste keuze bij ovulatie-inductie therapie bij anovulatoire vrouwen met PCOS die geen andere fertiliteitsbelemmerende aandoeningen hebben?

1 pt.

- a. Metformine
- b. Humaan Menopauze Gonadotrofine
- c. Letrozol
- d. Clomifeencitraat

134 Een koppel heeft een kindwens, maar de moeder van meneer is 3 jaar geleden gediagnosticeerd met de (late onset) ziekte van Huntington op 65 jarige leeftijd. Meneer wil liever niet weten of hij drager is van de ziekte, maar wil ook niet dat zijn nageslacht is aangedaan.

1 pt.

Welk advies is aangewezen in deze situatie?

- a. Prenatale diagnostiek door middel van amnionpunctie of chorionbiopsie
- b. Genetisch onderzoek doen naar dragerschap bij mevrouw
- c. Exclusie pre-implantatie genetisch testen

135 Welk middel voor ovariële stimulatie bij intra-uteriene inseminatie in het kader van onverklaarde subfertiliteit leidt tot het hoogste aantal levendgeborenen volgens de volgende meta-analyse?
1 pt.

Ovarian stimulation strategies for intrauterine insemination in couples with unexplained infertility: a systematic review and individual participant data meta-analysis. Wessel et al. Human reproduction Update, 2022.

- a. Letrozol
- b. Clomifeencitraat
- c. FSH

136 Welke informatie is nodig om de endometriosis fertility index (EFI) te kunnen berekenen?
1 pt. Kies de **DRIE** juiste antwoorden.

- a. Mate van adenomyosis
- b. Mate van vliezige en straffe adhesies rondom tuba en ovaria
- c. Grootte van endometriomen
- d. Mate van endometriose in de fornix posterior
- e. Mate van obliteratie van het cavum Douglasi

137 Wat is de meest bepalende factor voor cumulatieve levendgeborene na IVF bij poor-responders?
1 pt.

- a. Antrale follikel aantallen
- b. Leeftijd
- c. Ovariële respons bij eerdere IVF behandeling
- d. Anti Müllerse Hormoon

138 Het syndroom van Asherman kan ontstaan na een zwangerschapsgerelateerde curettage. Vul bij de volgende vergelijkingen in of het syndroom van Asherman vaker of minder vaak voorkomt.

Het syndroom van Asherman komt **(a) A. vaker B. minder vaak** (0,5 pt.) voor na een curettage bij een vroege miskraam ten opzichte van een late miskraam. Het syndroom van Asherman komt **(b) A. vaker B. minder vaak** (0,5 pt.) voor bij curettages postpartum ten opzichte van curettages in het 1e trimester.

139 1 pt. Waarom adviseren we iemand met WHO 2 anovulatie op basis van PCOS om af te vallen?
Vanwege toename van gevoeligheid voor:

- a. Oestradiol
- b. Testosteron
- c. Insuline
- d. Progesteron

140 1 pt. Zet de volgende fases van de puberteitsontwikkeling in de juiste volgorde.

| | |
|---|-----------------|
| 1 | Telarche |
| 2 | Groeispurt piek |
| 3 | Pubarche |
| 4 | Menarche |

141 1 pt. Bij een man met Klinefelter syndroom wordt azoöspermie vastgesteld.
Wat dient u deze man te vertellen over de mogelijkheid zich voort te planten?

- a. U bespreekt de mogelijkheid tot uitvoeren van testiculaire sperma extractie (TESE).
- b. U bespreekt de mogelijkheid tot behandeling met pulsatieel GnRH.
- c. Dit is helaas onmogelijk.

142 1 pt. Een neonaat blijkt na de hielprik een complete 21-hydroxylase deficiëntie te hebben.
Aan welke steroïden is een absoluut tekort?

Kies de **TWEE** juiste antwoorden.

- a. Aldosteron
- b. Cortisol
- c. Oestradiol
- d. Dehydro-epiandrosteronsulfaat (DHEAS)
- e. Androsteendion

143 Wat is de belangrijkste oorzaak van dyspareunie bij postmenopauzale vrouwen?

1 pt.

Gebrek aan:

- a. testosteron
- b. opwinding en clitorale stimulatie
- c. oestradiol

144 Fezolinetant (Veoza) is een medicijn ter behandeling van vasomotorische klachten geassocieerd met menopauze.

1 pt.

Hoe werkt het medicijn?

- a. Blokkade van neurokinine receptoren
- b. Stimulatie van de centrale α_2 -receptoren
- c. Stimulatie van oestradiolreceptor
- d. Blokkade van ganglion stellatum

145 Een 17-jarige patiënt heeft een amenorroe op basis van een syndroom van Kallmann.

1 pt.

Wat wordt er bij hormonaal laboratoriumonderzoek gezien?

| | | Verlaagd | Verhoogd |
|----------------|---|-----------------------|-----------------------|
| | | A | B |
| Gonadotrofines | 1 | <input type="radio"/> | <input type="radio"/> |
| Oestrogeen | 2 | <input type="radio"/> | <input type="radio"/> |

146 Een van de gevolgen van RED-S (Relative Energy Deficiency in Sport) is het ontstaan van secundaire amenorroe.

1 pt.

Welke WHO classificatie ovulatiestoornis hebben deze vrouwen?

- a. WHO 1
- b. WHO 2
- c. WHO 3

147 Zijn er voor de patiënt kosten verbonden aan een sterilisatie tijdens een sectio caesarea?

1 pt.

- a. Ja, de kosten vallen buiten het basispakket.
- b. Nee
- c. Dit is afhankelijk van de sterilisatietechniek.

148 Androgenen worden in verband gebracht met de seksuele opwinding van vrouwen.

1 pt.

Welke vrouwen hebben bewezen profijt bij toediening van androgenen?

- a. Vrouwen met verminderd seksueel verlangen die orale anticonceptie gebruiken
- b. Vrouwen die een fysiologische menopauze bereiken
- c. Pre-menopauzale vrouwen die een bilaterale ovariectomie hebben ondergaan

149 Na capacitatie van de spermacel is deze in staat tot enkele processen.

1 pt.

Kies de **DRIE** juiste antwoorden.

- a. Toename van motiliteit
- b. Doordringen van cervicale mucus
- c. Binding aan zona pellicuda
- d. Bescherming tegen vaginale enzymreacties
- e. Acrosoom reactie

150 In het kader van primaire amenorroe wordt lichamelijk onderzoek gedaan. Er wordt acanthosis nigricans vastgesteld.

1 pt.

Waar kan dit op wijzen?

- a. Hyperandrogenisme
- b. Androgeen ongevoeligheidssyndroom
- c. Hyperinsulinisme bij PCOS
- d. Syndroom van Turner

151 Een patiënt met obesitas is recent bevallen en wil starten met de orale combinatiepil. Zij geeft geen borstvoeding.
1 pt.

Wat adviseert u haar over het aanbevolen moment van starten met de pil post-partum en de betrouwbaarheid van het middel?

- a. Vanaf 3 weken post-partum, meteen betrouwbaar
- b. Vanaf 6 weken post-partum, meteen betrouwbaar
- c. Vanaf 3 weken post-partum, eerste 7 dagen condoom gebruik
- d. Vanaf 6 weken post-partum, eerste 7 dagen condoom gebruik

152 Welke factor verhoogt de kans op spijt na sterilisatie?
1 pt.

- a. Een kort interval na de bevalling
- b. Een groot gezin
- c. Bewuste kinderloosheid

153 Bij vrouwen die meer dan 3 jaar na de menarche zijn, is er sprake van een onregelmatige menstruatie als hun cyclus korter is dan **(a) A. 21 B. 25 C. 28 D.** (0,5 pt.) dagen, of langer is dan **(b) A. 35 B. 40 C. 45 D.** (0,5 pt.) dagen. Bij vrouwen in de periode van 1 tot 3 jaar na de menarche, is dat als hun cyclus langer is dan **(c) A. 35 B. 40 C. 45 D.** (0,5 pt.) dagen.

154 In de richtlijn PCOS wordt metformine genoemd als behandelingsoptie voor patiënten met PCOS.
1 pt.
Voor welke indicaties is dit zinvol?
Kies de **DRIE** juiste antwoorden.

- a. Hirsutisme
- b. Overgewicht
- c. Subfertiliteit
- d. Oligo- of amenorroe
- e. Metabool syndroom

155 Wat is het substraat voor oestrogensynthese?
1 pt.

- a. Glucocorticoiden
- b. Gonadotrofinen
- c. Progestagenen
- d. Androgenen

156 Rutgers, het expertise centrum seksualiteit, kwam in januari 2024 met een bericht dat vrouwen tussen de 18 en 29 jaar steeds vaker een natuurlijke methode gebruiken om een zwangerschap te voorkomen.

Hoeveel % van de Nederlandse vrouwen deed dit in 2023?

- a. 5
- b. 15
- c. 25
- d. 35

De toets is nu klaar. Je kunt niets meer aanpassen. Vanaf maandag 7 oktober 9.00 uur tot vrijdag 11 oktober 18.00 uur kun je opnieuw inloggen in Remindo om de antwoorden te bekijken en indien gewenst feedback te geven op de vragen. Het definitieve resultaat ontvang je in november 2024.

Naam:

Handtekening:

Datum:

Geboortedatum:

Opleiding: NVOG Toetsen Obstetrie en Gynaecologie - Vragen: Voortgangstoets 2024

Beste Aios,

Jullie starten zo de voortgangstoets van 2024. De vragen zijn gesorteerd en verdeeld over de 12 EPA's (Entrustable Professional Activities) van LOGO. De vragen toetsen zowel parate kennis als inzicht en het toepassen van kennis. Naast de standaard meerkeuze vragen, wordt de toets afgewisseld met andere type vragen (o.a. sleep-, verbind- en sorteervragen). Je mag geen internet of andere bronnen gebruiken tijdens de toets. Het aantal te behalen punten per vraag is vermeld in de vraag.

Je kunt tijdens de toets heen en weer bewegen tussen vragen. Wanneer je twijfelt over een antwoord en er later nog naar wilt kijken, kun je de vraag ook markeren. Bij het afronden van de toets krijg je dan een herinnering dat je nog een (aantal) vraag hebt gemarkeerd.

Veel succes!

1
1 pt.

| | | | | | |
|--------------------------|--------------------------|--------------------------|--------------------------|--------------------------|--------------------------|
| A | B | C | D | E | F |
| <input type="checkbox"/> | <input type="checkbox"/> | <input type="checkbox"/> | <input type="checkbox"/> | <input type="checkbox"/> | <input type="checkbox"/> |

Er zijn meerdere antwoorden mogelijk

2
1,5 pt.

| | | | |
|----|-----------------------|-----------------------|-----------------------|
| | A | B | C |
| 1: | <input type="radio"/> | <input type="radio"/> | <input type="radio"/> |
| 2: | <input type="radio"/> | <input type="radio"/> | <input type="radio"/> |
| 3: | <input type="radio"/> | <input type="radio"/> | <input type="radio"/> |

Kies één optie per rij

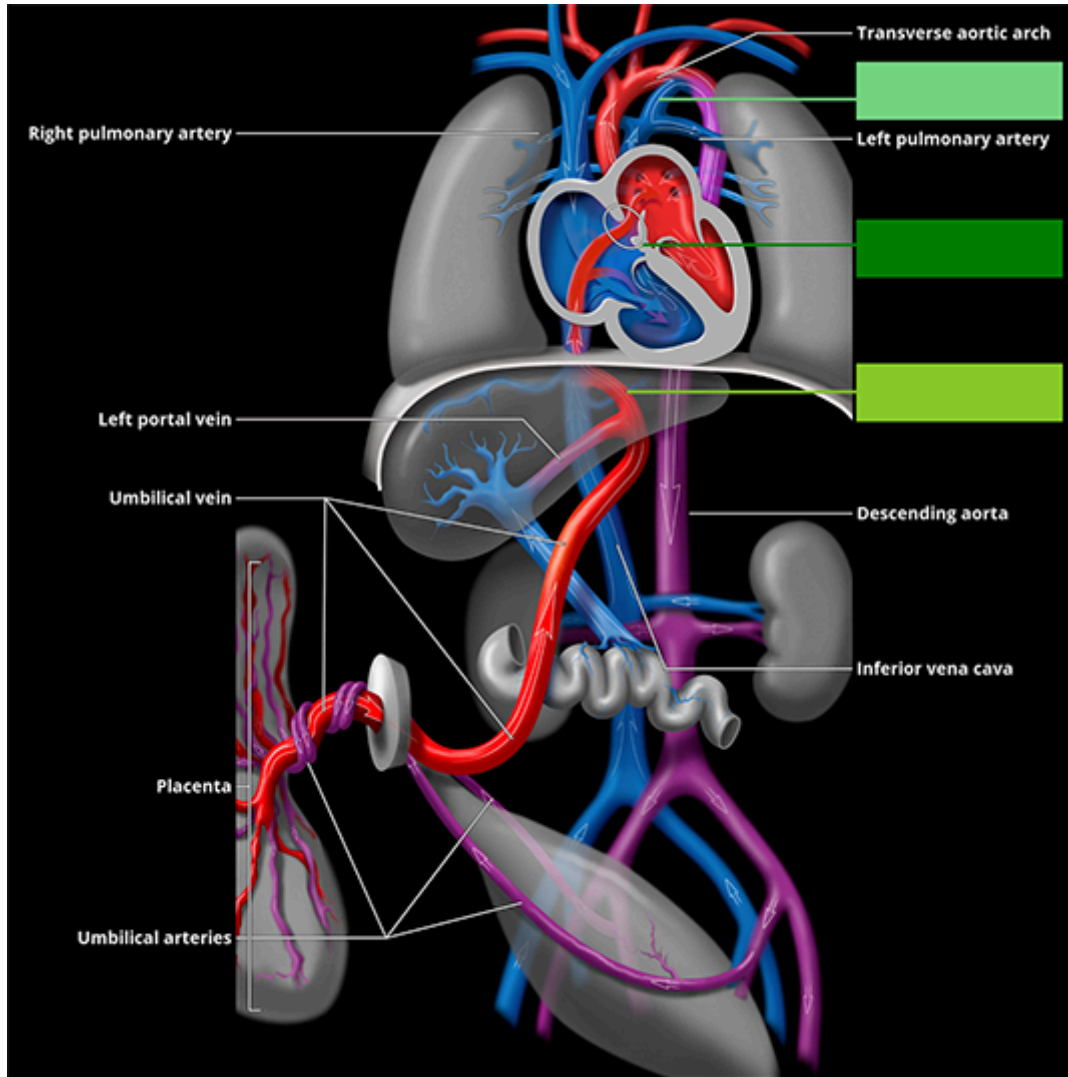
3
1 pt.

| | | | | | |
|--------------------------|--------------------------|--------------------------|--------------------------|--------------------------|--------------------------|
| A | B | C | D | E | F |
| <input type="checkbox"/> | <input type="checkbox"/> | <input type="checkbox"/> | <input type="checkbox"/> | <input type="checkbox"/> | <input type="checkbox"/> |

Er zijn meerdere antwoorden mogelijk

4
1 pt.

Een foetus heeft enkele extra verbindingen in de circulatie. Sleep de benaming van de verbinding naar de juiste plaats in de afbeelding.



Ductus arteriosus

Ductus venosus

Foramen ovale

5
1 pt. A B C

6
1 pt. A B C D

7
1 pt. A B

8
1 pt. A B C

9
1 pt. A B C

10
1 pt. A B C D

Er zijn meerdere antwoorden mogelijk

11
1 pt. A B C D

Er zijn meerdere antwoorden mogelijk

12
1 pt. a. A B

b. A B

13
1 pt. A B C D

14
1 pt. A B C

15
1 pt. A B

16
1 pt. A B

17
0,75 pt. a. A B C

b. A B C

18
1 pt. A B C D

19
1 pt. A B C

20
1 pt. A B C D

21
1 pt. A B C

22
1 pt. Antwoord:

23
1 pt. A B C D

24
1 pt. a. A B

b. A B

25
1 pt. A B C

26
1 pt. A B C

27
1 pt. A B C

28
1 pt.

a. A B

b. A B

c. A B

d. A B

29
1 pt.

a. A B C D

b. A B C

30
1,5 pt.

a. A B

b. A B C

c. A B C

31
1 pt.

A B C

32
1 pt.

A B C D

33
1 pt.

A B C

34
1,5 pt.

a. A B C D

b. A B C D

c. A B C D

d. A B C D

e. A B C D

f. A B C D

35
1 pt.

A B C

36
1 pt.

A B C D

37
1 pt. a. A B C D

b. A B C D

38
1,5 pt. a. A B

b. A B

c. A B

39
1,5 pt. A B C D E

Er zijn meerdere antwoorden mogelijk

40
1 pt. A B C

41
1 pt. a. A B

b. A B

42
1 pt. A B C D E F

Er zijn meerdere antwoorden mogelijk

43
1 pt. A B C D

44
1 pt. A B C

45
1 pt. A B C D

46
1 pt. A B C D

47
1 pt. A B C D E F

Er zijn meerdere antwoorden mogelijk

48
1 pt. A B C D

Er zijn meerdere antwoorden mogelijk

49
1 pt. A B C

50
1 pt. A B C D E F G H

Er zijn meerdere antwoorden mogelijk

51
1 pt. A B C D

52 A B C D E F
1 pt.

Er zijn meerdere antwoorden mogelijk

53 A B C
1 pt.

54 A B C D E
1 pt.

Er zijn meerdere antwoorden mogelijk

55 A B C D
1 pt.

56 A B C
1 pt.

57 A B C
1 pt.

58 A B C D
1 pt.

59 A B C D
1 pt.

60 A B C
1 pt.

61 A B C D
1 pt.

62 A B C D E
1 pt.

Er zijn meerdere antwoorden mogelijk

63 A B C D
1 pt.

Er zijn meerdere antwoorden mogelijk

64 A B C
1 pt.

65 A B C D
1 pt.

66 A B C D
1 pt.

67 A B C
1 pt.

68 A B C
1 pt.

69 A B C
1 pt.

70 A B C D E F
1,33 pt.

Er zijn meerdere antwoorden mogelijk

71 A B C
1 pt.

72 A B C D
1 pt. a.

b.

73
1 pt. A B C D

74
1 pt. A B C D E

75
1 pt. A B C D

76
1 pt. A B C D

77
1 pt. A B

78
1 pt. A B C D E

79
1 pt. A B C D E

Er zijn meerdere antwoorden mogelijk

80
1 pt. A B C D

81
1 pt. A B C

82
1 pt. A B C

83
1 pt. A B C

84
1,33 pt. A B C D E F G H

Er zijn meerdere antwoorden mogelijk

85
1 pt. A B C D

86
1 pt. A B C

87
1 pt. A B C

88
2 pt. A B C D

89
1 pt. A B C D

90
1 pt. A B C D

91
1 pt. A B C D

92
1 pt. A B C D

93
1 pt. A B C

94
1 pt. A B C D

95
1 pt. A B C

96
1 pt. A B

97 A B C D
1 pt.

98 A B C D
1 pt.

99 A B C D
1 pt.

Er zijn meerdere antwoorden mogelijk

100 A B C D
1 pt.

101 A B C
1 pt.

102 A B C
1 pt.

103 A B C D
1 pt.

104 A B C
1 pt.

105 A B C
2 pt.

106 A B C
1 pt.

107 A B C D
1 pt.

108 A B C D
1 pt.

109 A B C
1 pt.

110 A B
1,75 pt. 1:

2:

3:

4:

5:

6:

7:

Kies één optie per rij

111 A B C D E
1 pt.

112 A B C
1 pt.

113 A B C D E
1 pt.

Er zijn meerdere antwoorden mogelijk

114 A B
1 pt.

115
1 pt.

- A B C

116
1 pt.

- A B C D E F

117
1,5 pt.

- A B C D E F G H I J K L M

Er zijn meerdere antwoorden mogelijk

118
1 pt.

- A B C D

119
1 pt.

- A B C

120
1 pt.

- a. A B

b. A B

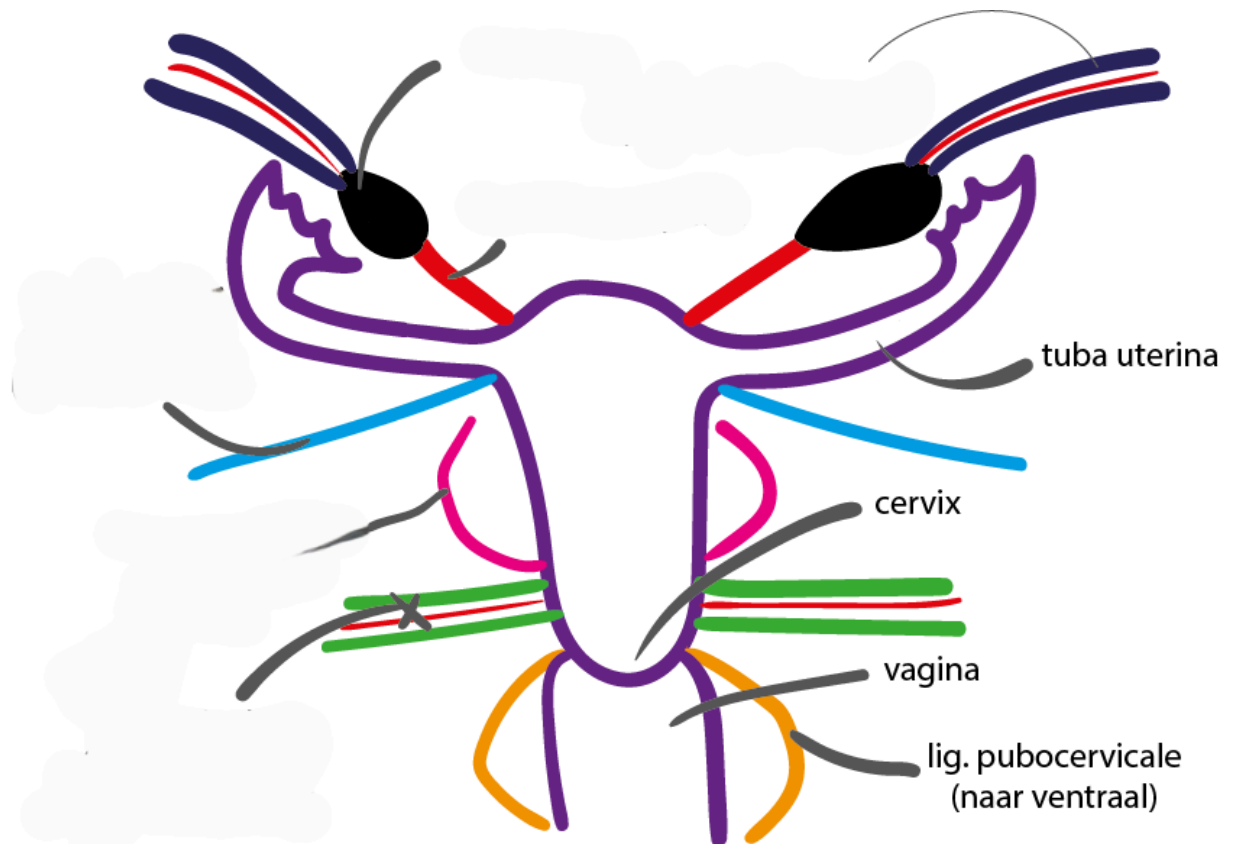
121
1 pt.

- A B C D

122
4 pt.

Sleep de naam naar de anatomische structuur die hierbij past.

"Ligamenten uterus" by Friso Jansen, LUMC, license: CC BY-NC-SA



lig. cardinale
(naar lateraal)
(bevat a./v. uterina)

lig. teres uteri
(lig. rotundum)

lig. ovarii proprium

lig. sacro-uterina

lig. suspensorium ovarii

123
1 pt. A B C D

124
1,5 pt. A B C
1:
2:

Er zijn meerdere antwoorden per rij mogelijk

125
1 pt. A B C D E F G H

Er zijn meerdere antwoorden mogelijk

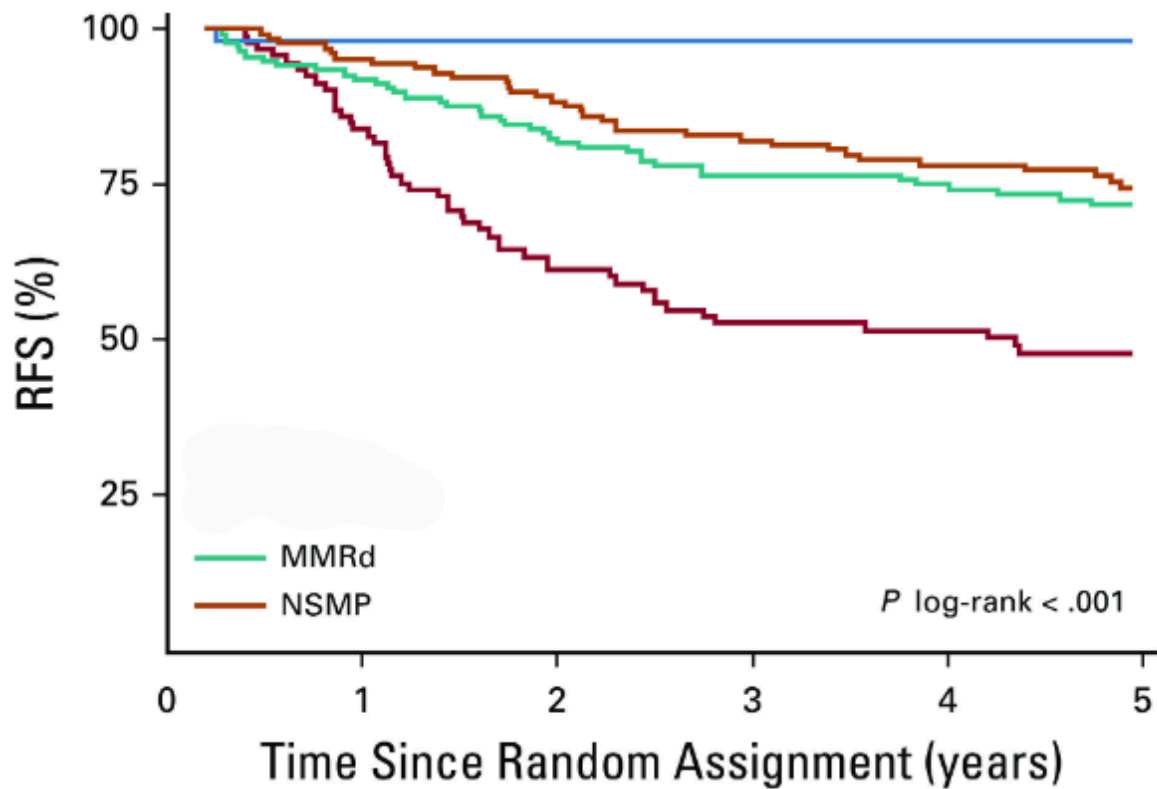
126
2 pt. De PORTEC 3 studie laat zien dat de verschillende moleculaire subtypes een sterk voorspellende waarde hebben op de kans op recidief endometrium carcinoom

Er wordt onderscheid gemaakt tussen de volgende vier moleculaire subtypes:

- p53-abnormal (p53abn)
- POLE-ultramutated (POLEmut)
- mismatch repair-deficient (MMRd)
- no specific molecularprofile (NSMP) EC

Verbind het juiste submoleculaire subtype met de juiste Kaplan Meier curve.

Molecular Classification of the PORTEC-3 Trial for High-Risk Endometrial Cancer: Impact on Prognosis and Benefit From Adjuvant Therapy. León-Castillo et al. J Clin Oncol. 2020.



p53abn

POLEmut

127
1 pt.

A B

128
1 pt.

A B C D E

Er zijn meerdere antwoorden mogelijk

129
1 pt.

A B C D

130
1 pt.

A B C D

131
1 pt.

A B C D

Er zijn meerdere antwoorden mogelijk

132
1 pt.

A B C D

133
1 pt.

A B C D

134
1 pt.

A B C

135
1 pt.

A B C

136
1 pt.

A B C D E

Er zijn meerdere antwoorden mogelijk

137
1 pt. A B C D

138
1 pt. a. A B

b. A B

139
1 pt. A B C D

140
1 pt.

Antwoord:

141
1 pt. A B C

142
1 pt. A B C D E

Er zijn meerdere antwoorden mogelijk

143
1 pt. A B C

144
1 pt. A B C D

145
1 pt. 1: A B

2:

Kies één optie per rij

146
1 pt. A B C

147
1 pt. A B C

148
1 pt. A B C

149
1 pt. A B C D E

Er zijn meerdere antwoorden mogelijk

150
1 pt. A B C D

151
1 pt. A B C D

152
1 pt. A B C

153
1,5 pt. a. A B C D

b. A B C D

c. A B C D

154
1 pt. A B C D E

Er zijn meerdere antwoorden mogelijk

155
1 pt. A B C D

156
1 pt. A B C D

De toets is nu klaar. Je kunt niets meer aanpassen. Vanaf maandag 7 oktober 9.00 uur tot vrijdag 11 oktober 18.00 uur kun je opnieuw inloggen in Remindo om de antwoorden te bekijken en indien gewenst feedback te geven op de vragen. Het definitieve resultaat ontvang je in november 2024.

Uitwerking van het antwoord

1. A
1 pt. 0,33 pt. B
C
0,33 pt. D
E
0,33 pt. F
Bonus: 0.01 pt.

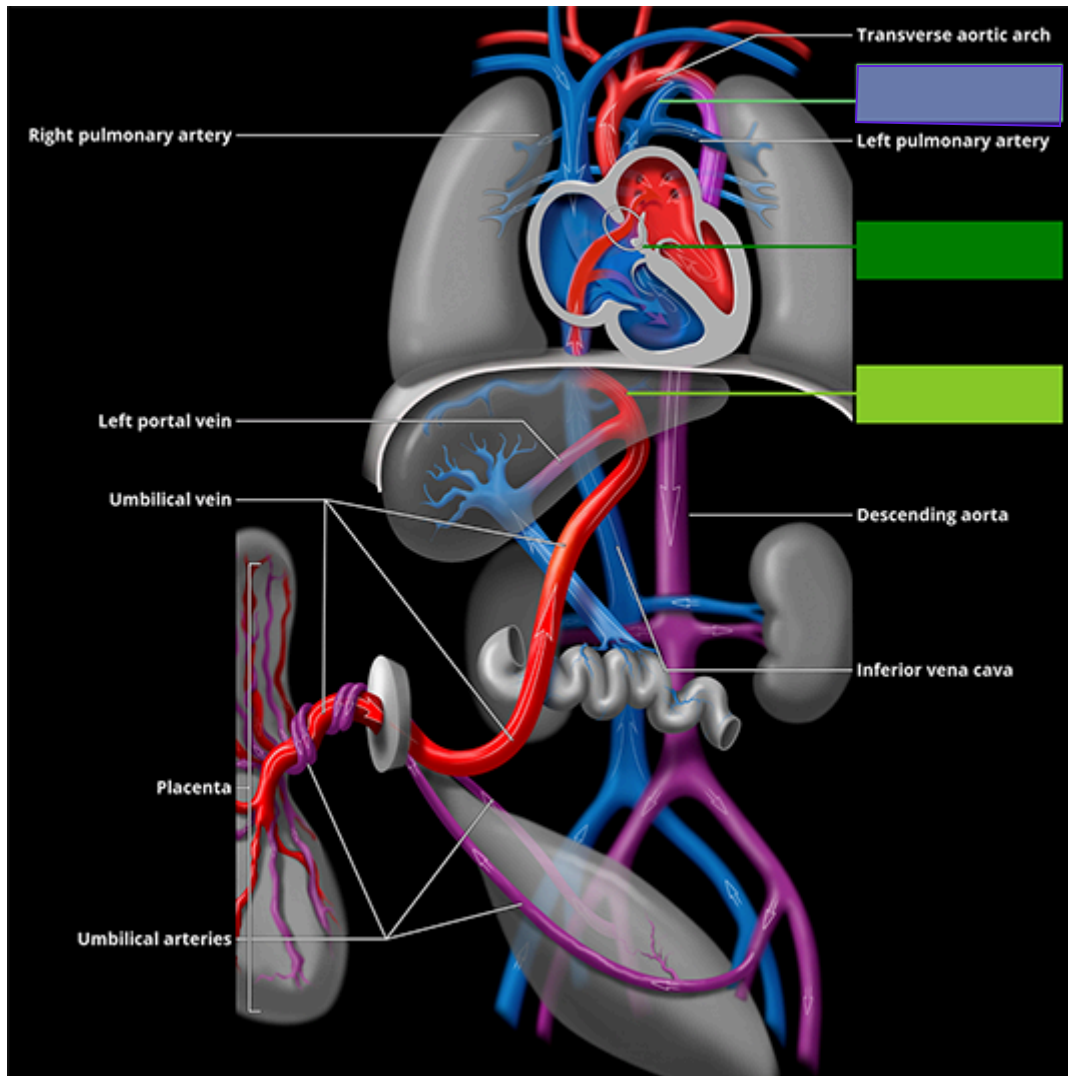
2. 1. 0,5 pt. C
1,5 pt. 2. 0,5 pt. B
3. 0,5 pt. A

3. A
1 pt. 0,5 pt. B
C
D
E
0,5 pt. F
Bonus: 0 pt.

4. a. Versleepbare afbeelding:
1 pt.

Ductus arteriosus

Doelwit:

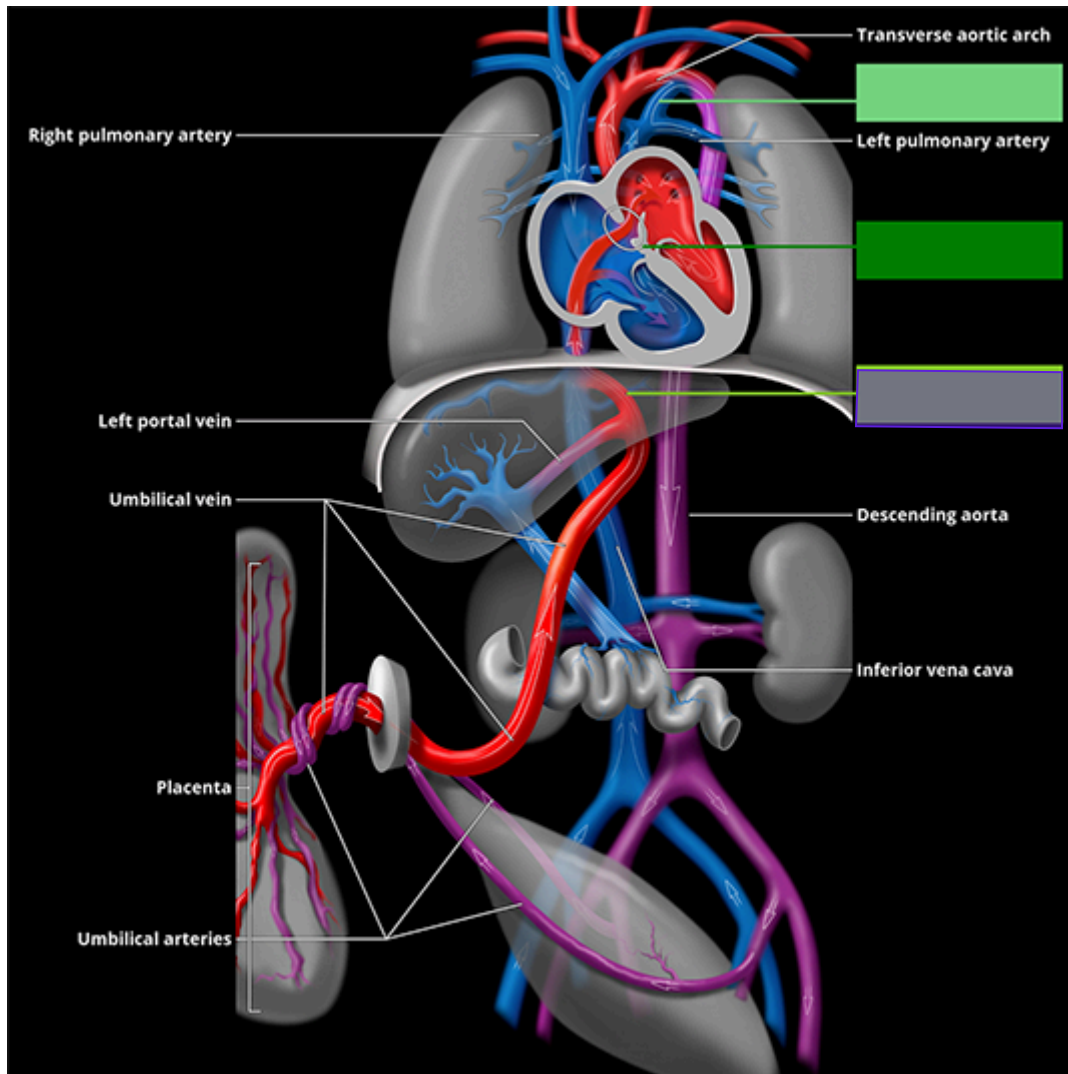


1 pt.

b. Versleepbare afbeelding:

Ductus venosus

Doelwit:

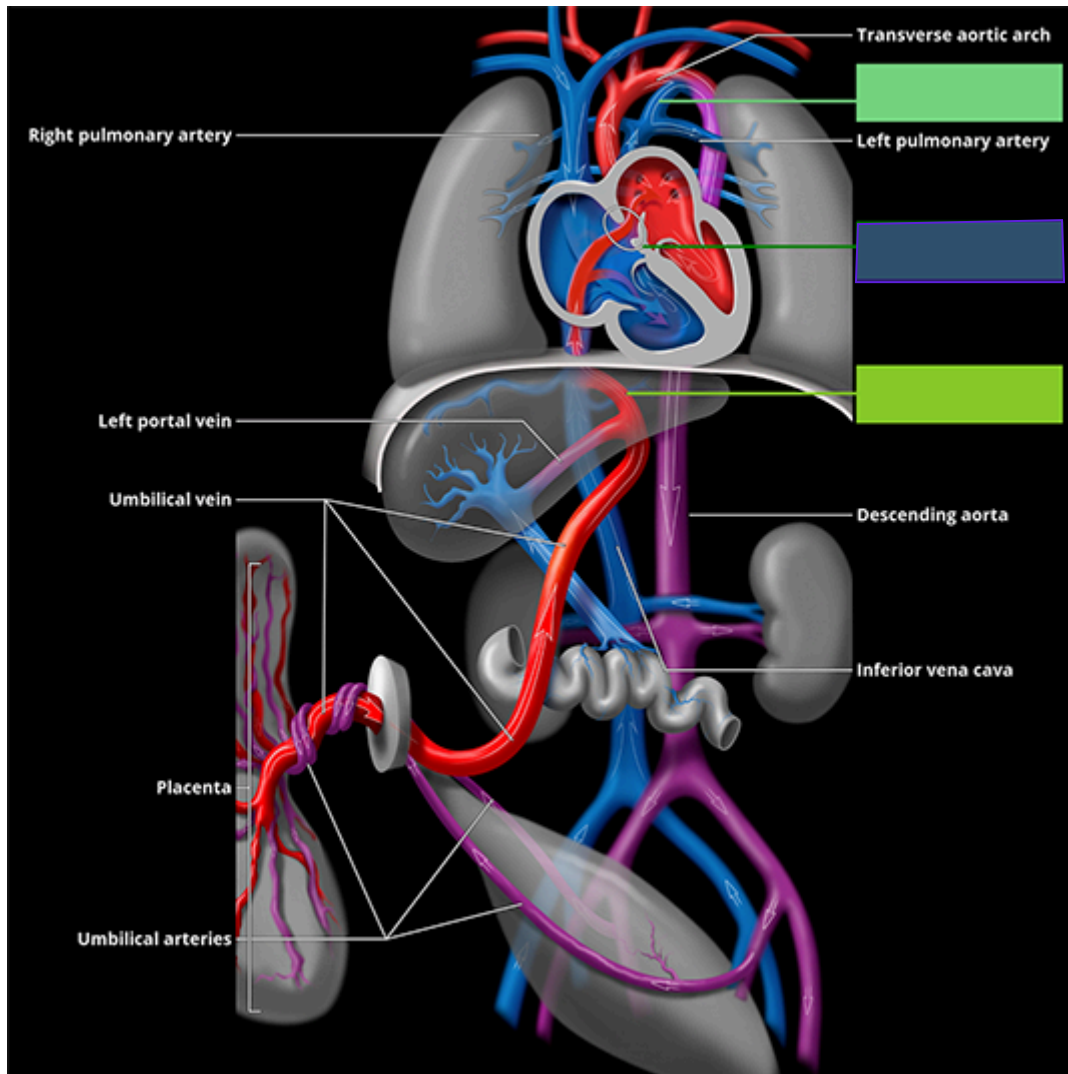


0 pt.

c. Versleepbare afbeelding:

Foramen ovale

Doelwit:



0 pt.

5. B
1 pt.

6. B
1 pt.

7. A
1 pt.

8. A
1 pt.

9. B
1 pt.

10. A
1 pt. B
0,5 pt. C
0,5 pt. D
Bonus: 0 pt.

11. 0,5 pt. A
1 pt. 0,5 pt. B
C
D
Bonus: 0 pt.

12. a. A
1 pt. b. B

13. B
1 pt.

15. B
1 pt.

14. A
1 pt.

16. A
1 pt.

17. a. B
0,75 pt. b. A

18. C
1 pt.

22. Rangschik onderstaande diagnoses van
1 pt. meest frequent naar minst frequent
voorkomend in de zwangerschap.

19. B
1 pt.

4 Preeclampsie

20. A
1 pt.

1 Zwangerschapscholestase

21. C
1 pt.

3 Acute fatty liver of pregnancy

2 Atypisch hemolytisch uremisch
syndroom

23. B
1 pt.

24. a. A
1 pt.
b. A

25. C
1 pt.

27. B
1 pt.

26. C
1 pt.

28. a. A
1 pt.
b. A
c. A
d. A

29. a. B
1 pt.
b. C

- 30.** a. B
1,5 pt.
b. C
c. B
-

31. A
1 pt.

32. B
1 pt.

33. C
1 pt.

- 34.** a. C
1,5 pt.
b. C
c. D
d. A
e. B
f. B
-

35. A
1 pt.

36. A
1 pt.

- 37.** a. A
1 pt.
b. C

- 38.** a. A
1,5 pt.
b. A
c. A
-

39. 0,5 pt. A
1,5 pt. 0,5 pt. B
C
0,5 pt. D
E
Bonus: 0 pt.

40. B
1 pt.

41. a. A
1 pt. b. B

42. 0,5 pt. A
1 pt. B
C
D
E
0,5 pt. F
Bonus: 0 pt.

43. B
1 pt.

44. C
1 pt.

45. A
1 pt.

46. B
1 pt.

47. A
1 pt. B
0,5 pt. C
0,5 pt. D
E
F
Bonus: 0 pt.

48. A
1 pt. 0,5 pt. B
C
0,5 pt. D
Bonus: 0 pt.

49. A
1 pt.

50. 0,2 pt. A
1 pt. B
C
0,2 pt. D
E
0,2 pt. F
0,2 pt. G
0,2 pt. H
Bonus: 0 pt.

51. B
1 pt.

52. 0,33 pt. A
1 pt. B
0,33 pt. C
D
0,33 pt. E
F
Bonus: 0.01 pt.

53. C
1 pt.

54. 0,33 pt. A
1 pt. 0,33 pt. B
C
D
0,33 pt. E
Bonus: 0.01 pt.

55. A
1 pt.

56. B
1 pt.

57. A
1 pt.

58. C
1 pt.

59. B
1 pt.

60. A
1 pt.

61. D
1 pt.

62. 0,33 pt. A
1 pt. B
0,33 pt. C
0,33 pt. D
E
Bonus: 0.01 pt.

63. 0,33 pt. A
1 pt. 0,33 pt. B
0,33 pt. C
D
Bonus: 0.01 pt.

64. B
1 pt.

65. C
1 pt.

66. C
1 pt.

67. C
1 pt.

68. C
1 pt.

69. A
1 pt.

70. 0,33 pt. A
1,33 pt. B
0,33 pt. C
0,33 pt. D
E
0,33 pt. F
Bonus: 0.01 pt.

71. B
1 pt.

72. a. B
1 pt.
b. B

73. C
1 pt.

74. A
1 pt.

75. D
1 pt.

76. A
1 pt.

77. A
1 pt.

78. B
1 pt.

79. A
1 pt. 0,33 pt. B
C
0,33 pt. D
0,33 pt. E
Bonus: 0.01 pt.

80. C
1 pt.

81. A
1 pt.

82. C
1 pt.

83. B
1 pt.

84. A
1,33 pt. B
0,33 pt. C
0,33 pt. D
E
0,33 pt. F
G
0,33 pt. H
Bonus: 0.01 pt.

85. A
1 pt.

86. B
1 pt.

87. B
1 pt.

88. C
2 pt.

89. B
1 pt.

90. C
1 pt.

91. A
1 pt.

92. A
1 pt.

93. B
1 pt.

94. B
1 pt.

95. C
1 pt.

96. B
1 pt.

97. A
1 pt.

98. A
1 pt.

99. A
1 pt. 0,5 pt. B
C
0,5 pt. D
Bonus: 0 pt.

100. C
1 pt.

101. B
1 pt.

102. C
1 pt.

103. B
1 pt.

104. C
1 pt.

105. B
2 pt.

106. C
1 pt.

107. D
1 pt.

108. B
1 pt.

109. B
1 pt.

110. 1. 0,25 pt. A
1,75 pt. 2. 0,25 pt. A
3. 0,25 pt. A
4. 0,25 pt. B
5. 0,25 pt. A
6. 0,25 pt. B
7. 0,25 pt. B

111. A
1 pt.

112. A
1 pt.

113. 0,5 pt. A
1 pt. 0,5 pt. B
C
D
-1 pt. E
Bonus: 0 pt.

114. B
1 pt.

115. B
1 pt.

116. F
1 pt.

117. A
1,5 pt. 0,25 pt. B
C
0,25 pt. D
E
0,25 pt. F
0,25 pt. G
H
I
0,25 pt. J
0,25 pt. K
L
M
Bonus: 0 pt.

118. A
1 pt.
119. B
1 pt.

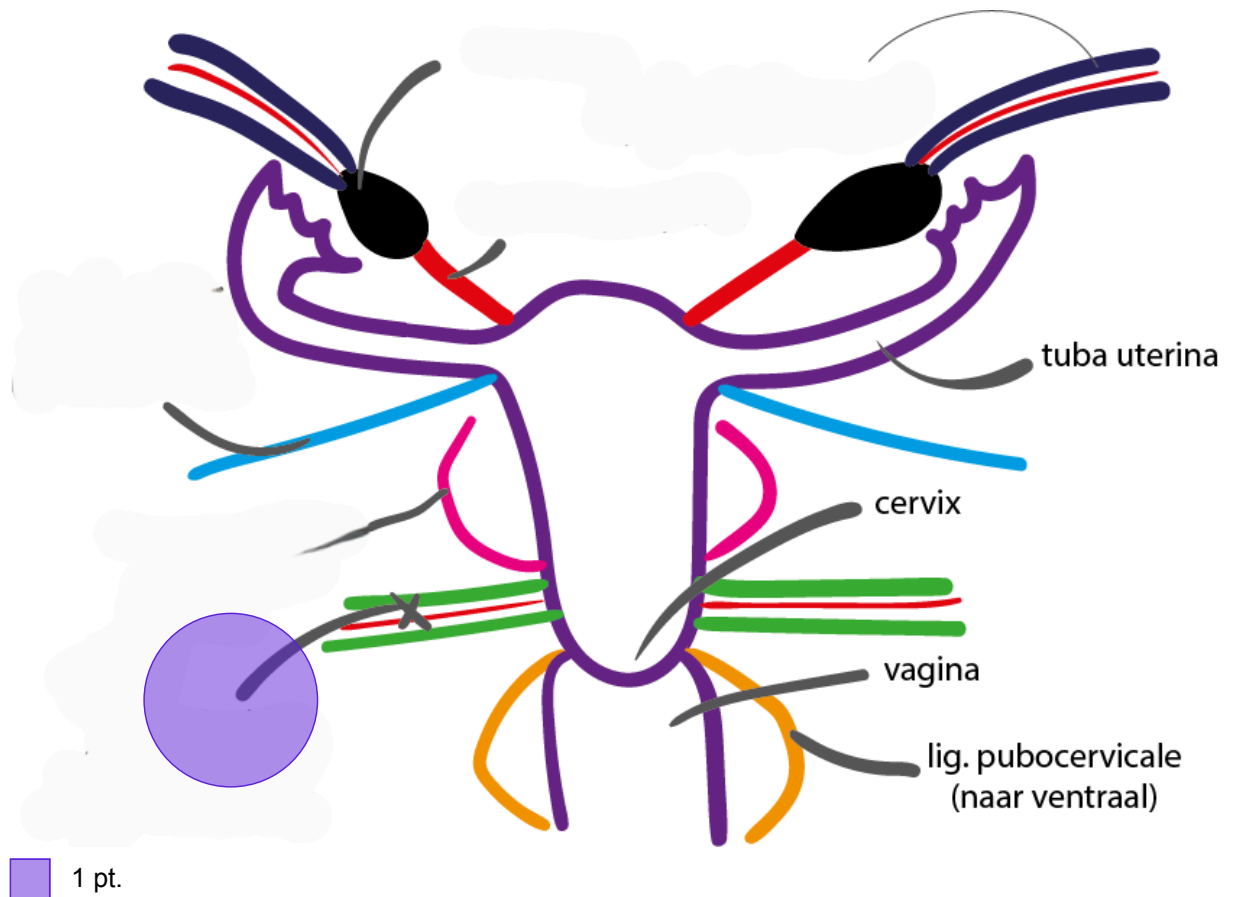
120. a. A
1 pt. b. B

121. A
1 pt.

122. a. Versleepbare afbeelding:
4 pt.

lig. cardinale
(naar lateraal)
(bevat a./v. uterina)

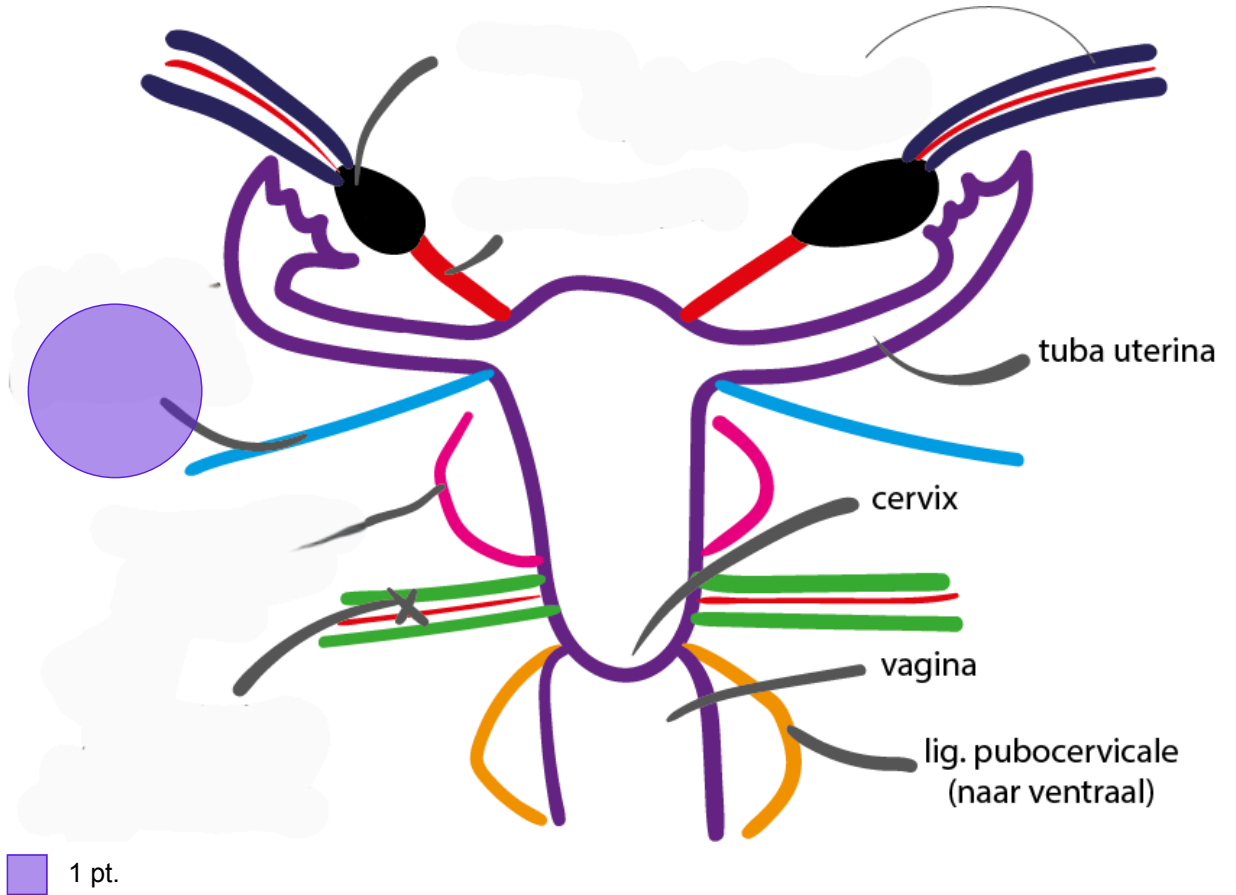
Doelwit:



b. Versleepbare afbeelding:

lig. teres uteri (lig. rotundum)

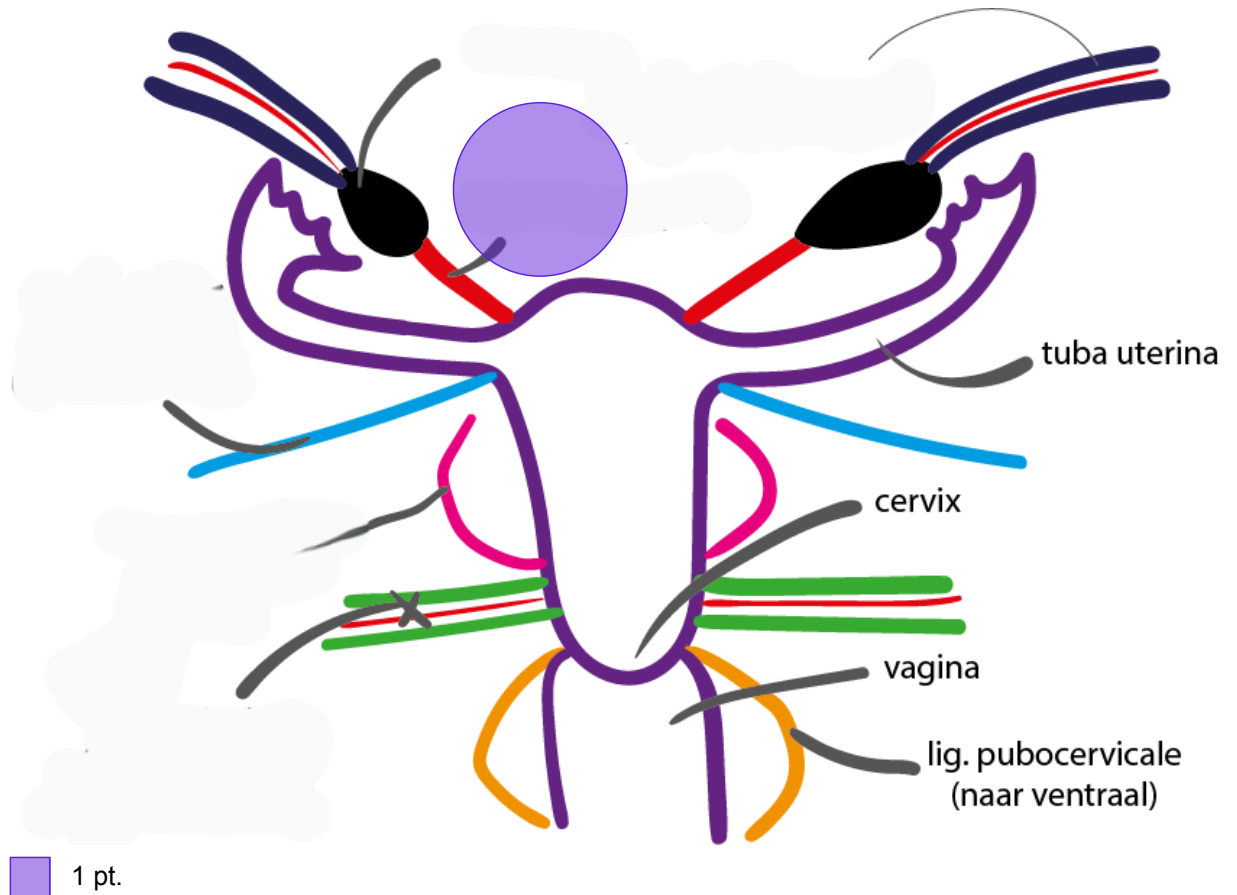
Doelwit:



c. Versleepbare afbeelding:

lig. ovarii proprium

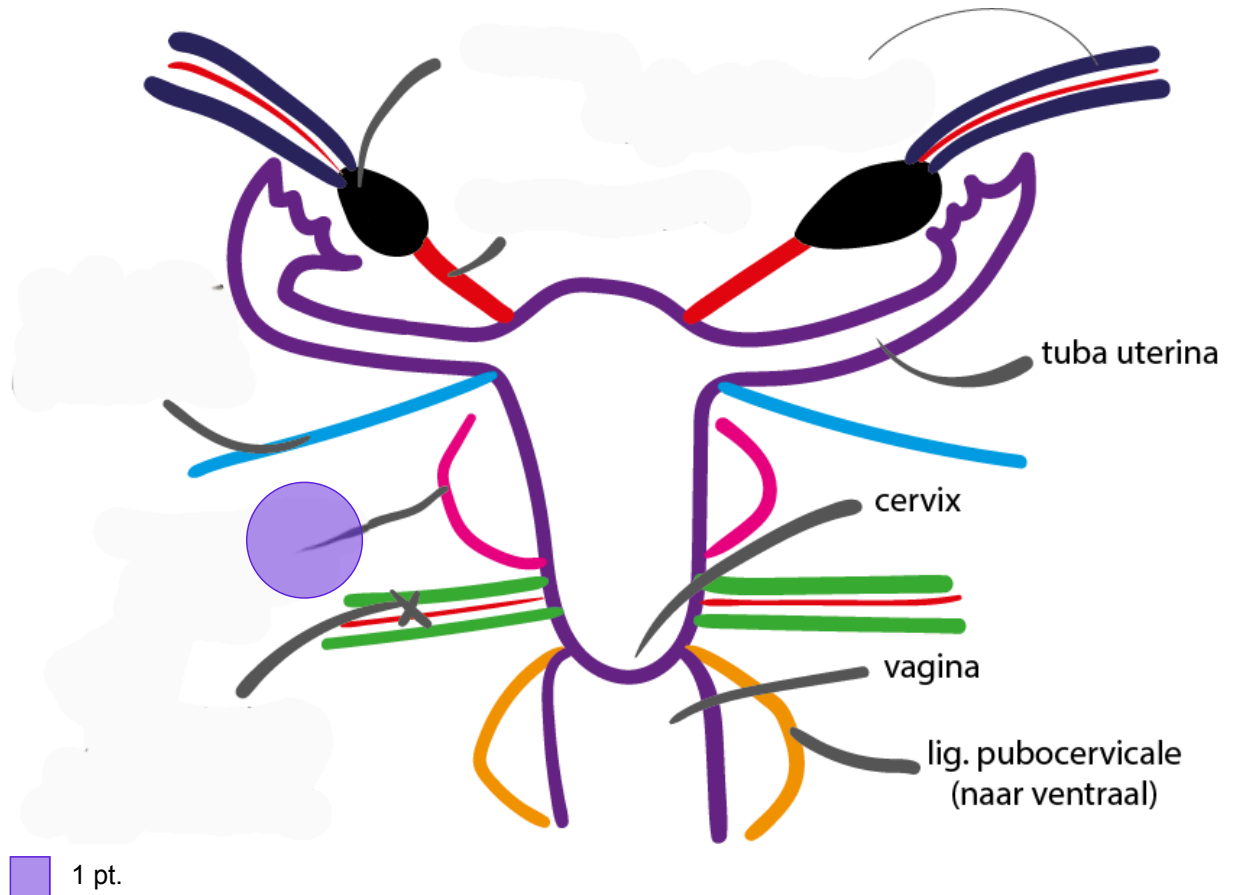
Doelwit:



d. Versleepbare afbeelding:

lig. sacro-uterina

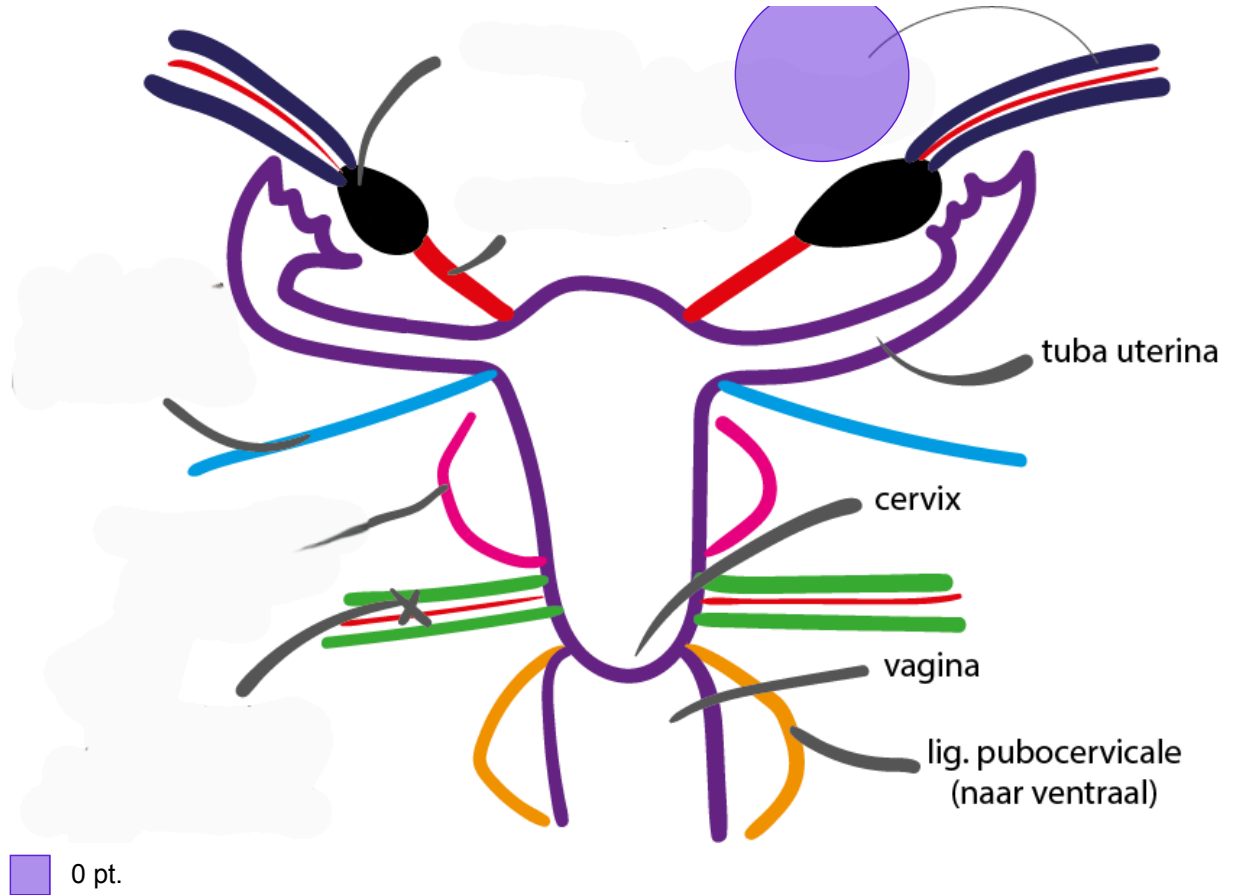
Doelwit:



e. Versleepbare afbeelding:

lig. suspensorium ovarii

Doelwit:



123. C
1 pt.

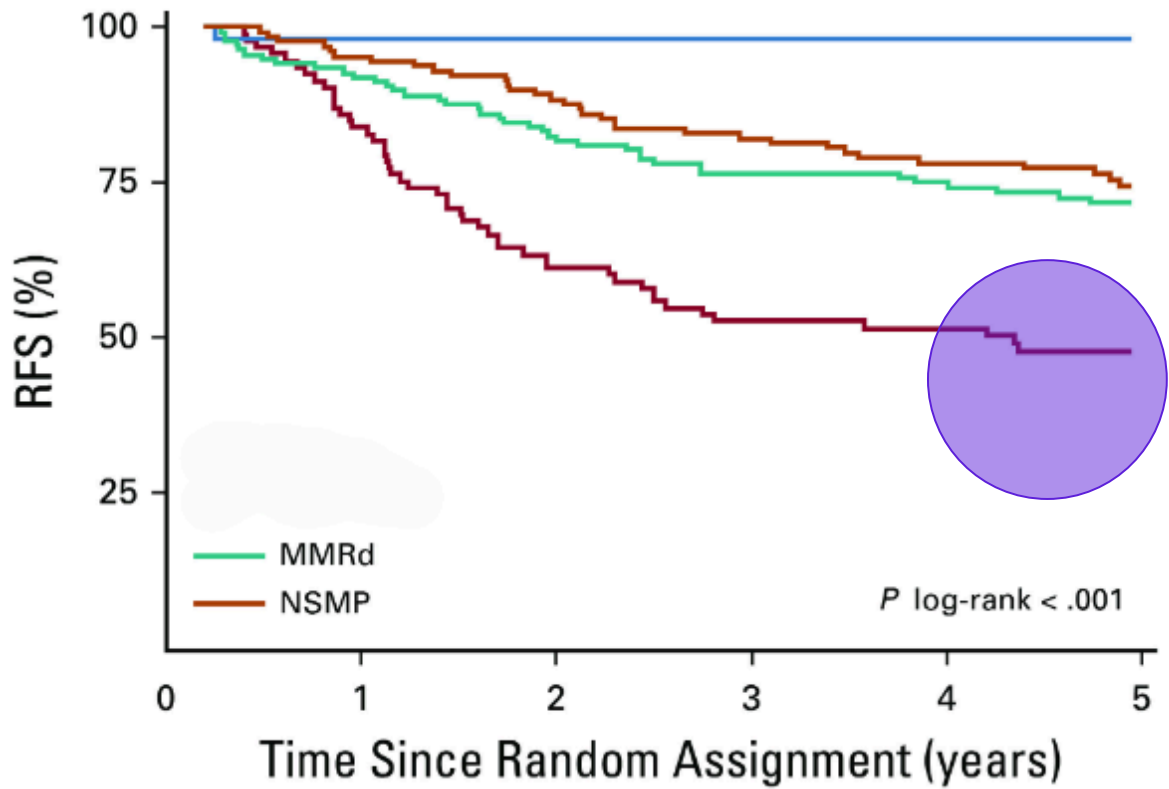
124. 1. 0,5 pt. A
1,5 pt. 0,5 pt. B
2. 0,5 pt. C

- 125.** A
1 pt. 0,25 pt. B
0,25 pt. C
0,25 pt. D
E
F
G
0,25 pt. H
Bonus: 0 pt.

126. a. Versleepbare afbeelding:
2 pt.

p53abn

Doelwit:

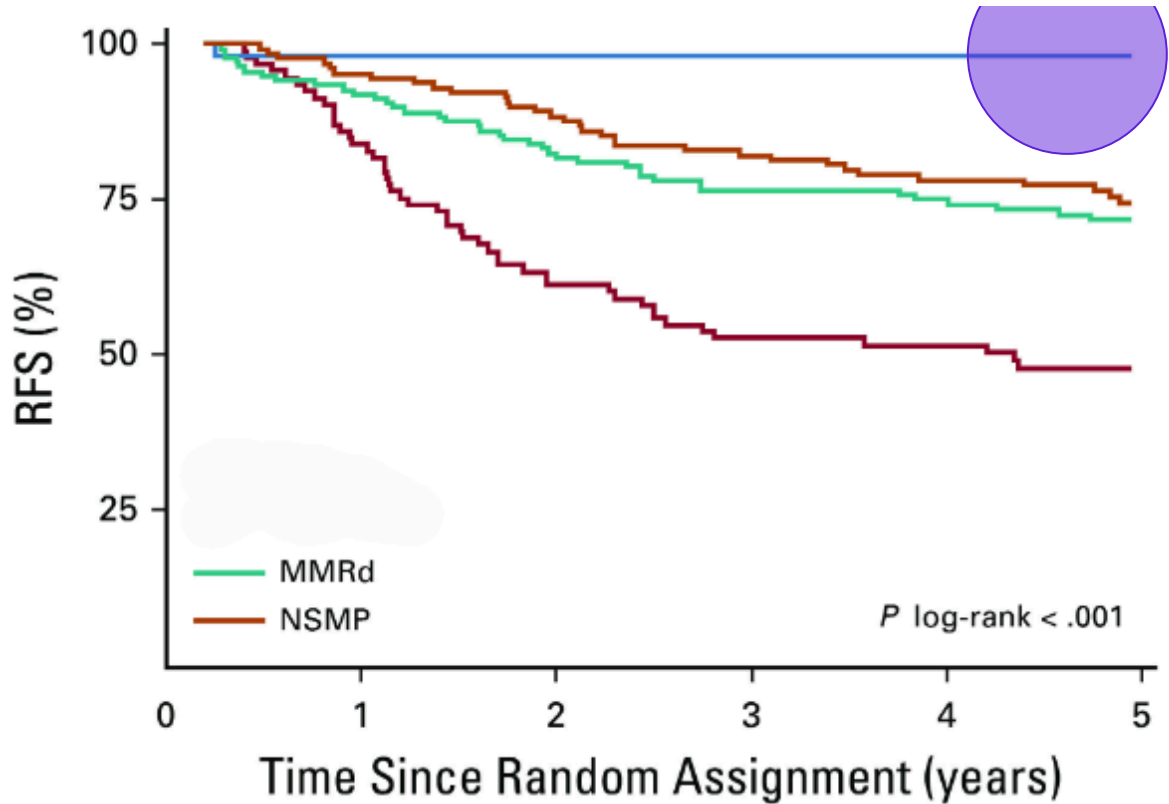


0 pt.

b. Versleepbare afbeelding:

POLEmut

Doelwit:



0 pt.

127. B
1 pt.

128. 0,33 pt. A
1 pt. B
0,33 pt. C
0,33 pt. D
E
Bonus: 0.01 pt.

129. D
1 pt.

130. C
1 pt.

131. A
1 pt. 0,5 pt. B
C
0,5 pt. D
Bonus: 0 pt.

132. A
1 pt.

133. C
1 pt.

134. C
1 pt.

135. C
1 pt.

136. A
1 pt. 0,33 pt. B
0,33 pt. C
D
0,33 pt. E
Bonus: 0.01 pt.

137. B
1 pt.

138. a. B
1 pt.
b. A

139. C
1 pt.

140. Zet de volgende fases van de
1 pt. puberteitsontwikkeling in de juiste volgorde.

1 Telarche

3 Pubarche

2 Groeispuurt piek

4 Menarche

141. A
1 pt.

142. 0,5 pt. A
1 pt. 0,5 pt. B
C
D
E
Bonus: 0 pt.

143. B
1 pt.

144. A
1 pt.

145. 1. 0,5 pt. A
1 pt. 2. 0,5 pt. A

146. A
1 pt.

147. A
1 pt.

148. C
1 pt.

149. 0,33 pt. A
1 pt. B
0,33 pt. C
D
0,33 pt. E
Bonus: 0.01 pt.

150. C
1 pt.

151. D
1 pt.

152. A
1 pt.

153. a. A
1,5 pt.
b. A
c. C

154. 0,33 pt. A
1 pt. 0,33 pt. B
C
D
0,33 pt. E
Bonus: 0.01 pt.

156. B
1 pt.

155. D
1 pt.

Cesuur

| Behaalde punten | Cijfer |
|-----------------|--------|
| 167,2 | 100,0% |
| 167,0 | 99,9% |
| 166,8 | 99,8% |
| 166,6 | 99,6% |
| 166,4 | 99,5% |
| 166,2 | 99,4% |
| 166,0 | 99,3% |
| 165,8 | 99,2% |
| 165,6 | 99,0% |
| 165,4 | 98,9% |
| 165,2 | 98,8% |
| 165,0 | 98,7% |
| 164,8 | 98,6% |
| 164,6 | 98,4% |
| 164,4 | 98,3% |
| 164,2 | 98,2% |
| 164,0 | 98,1% |
| 163,8 | 98,0% |
| 163,6 | 97,8% |
| 163,4 | 97,7% |
| 163,2 | 97,6% |
| 163,0 | 97,5% |
| 162,8 | 97,4% |
| 162,6 | 97,2% |
| 162,4 | 97,1% |
| 162,2 | 97,0% |
| 162,0 | 96,9% |
| 161,8 | 96,8% |
| 161,6 | 96,6% |
| 161,4 | 96,5% |

| | |
|-------|-------|
| 161,2 | 96,4% |
| 161,0 | 96,3% |
| 160,8 | 96,2% |
| 160,6 | 96,1% |
| 160,4 | 95,9% |
| 160,2 | 95,8% |
| 160,0 | 95,7% |
| 159,8 | 95,6% |
| 159,6 | 95,5% |
| 159,4 | 95,3% |
| 159,2 | 95,2% |
| 159,0 | 95,1% |
| 158,8 | 95,0% |
| 158,6 | 94,9% |
| 158,4 | 94,7% |
| 158,2 | 94,6% |
| 158,0 | 94,5% |
| 157,8 | 94,4% |
| 157,6 | 94,3% |
| 157,4 | 94,1% |
| 157,2 | 94,0% |
| 157,0 | 93,9% |
| 156,8 | 93,8% |
| 156,6 | 93,7% |
| 156,4 | 93,5% |
| 156,2 | 93,4% |
| 156,0 | 93,3% |
| 155,8 | 93,2% |
| 155,6 | 93,1% |
| 155,4 | 92,9% |
| 155,2 | 92,8% |

| | |
|-------|-------|
| 155,0 | 92,7% |
| 154,8 | 92,6% |
| 154,6 | 92,5% |
| 154,4 | 92,3% |
| 154,2 | 92,2% |
| 154,0 | 92,1% |
| 153,8 | 92,0% |
| 153,6 | 91,9% |
| 153,4 | 91,7% |
| 153,2 | 91,6% |
| 153,0 | 91,5% |
| 152,8 | 91,4% |
| 152,6 | 91,3% |
| 152,4 | 91,1% |
| 152,2 | 91,0% |
| 152,0 | 90,9% |
| 151,8 | 90,8% |
| 151,6 | 90,7% |
| 151,4 | 90,5% |
| 151,2 | 90,4% |
| 151,0 | 90,3% |
| 150,8 | 90,2% |
| 150,6 | 90,1% |
| 150,4 | 89,9% |
| 150,2 | 89,8% |
| 150,0 | 89,7% |
| 149,8 | 89,6% |
| 149,6 | 89,5% |
| 149,4 | 89,4% |
| 149,2 | 89,2% |
| 149,0 | 89,1% |
| 148,8 | 89,0% |
| 148,6 | 88,9% |

| | |
|-------|-------|
| 148,4 | 88,8% |
| 148,2 | 88,6% |
| 148,0 | 88,5% |
| 147,8 | 88,4% |
| 147,6 | 88,3% |
| 147,4 | 88,2% |
| 147,2 | 88,0% |
| 147,0 | 87,9% |
| 146,8 | 87,8% |
| 146,6 | 87,7% |
| 146,4 | 87,6% |
| 146,2 | 87,4% |
| 146,0 | 87,3% |
| 145,8 | 87,2% |
| 145,6 | 87,1% |
| 145,4 | 87,0% |
| 145,2 | 86,8% |
| 145,0 | 86,7% |
| 144,8 | 86,6% |
| 144,6 | 86,5% |
| 144,4 | 86,4% |
| 144,2 | 86,2% |
| 144,0 | 86,1% |
| 143,8 | 86,0% |
| 143,6 | 85,9% |
| 143,4 | 85,8% |
| 143,2 | 85,6% |
| 143,0 | 85,5% |
| 142,8 | 85,4% |
| 142,6 | 85,3% |
| 142,4 | 85,2% |
| 142,2 | 85,0% |
| 142,0 | 84,9% |

| | |
|-------|-------|
| 141,8 | 84,8% |
| 141,6 | 84,7% |
| 141,4 | 84,6% |
| 141,2 | 84,4% |
| 141,0 | 84,3% |
| 140,8 | 84,2% |
| 140,6 | 84,1% |
| 140,4 | 84,0% |
| 140,2 | 83,8% |
| 140,0 | 83,7% |
| 139,8 | 83,6% |
| 139,6 | 83,5% |
| 139,4 | 83,4% |
| 139,2 | 83,2% |
| 139,0 | 83,1% |
| 138,8 | 83,0% |
| 138,6 | 82,9% |
| 138,4 | 82,8% |
| 138,2 | 82,7% |
| 138,0 | 82,5% |
| 137,8 | 82,4% |
| 137,6 | 82,3% |
| 137,4 | 82,2% |
| 137,2 | 82,1% |
| 137,0 | 81,9% |
| 136,8 | 81,8% |
| 136,6 | 81,7% |
| 136,4 | 81,6% |
| 136,2 | 81,5% |
| 136,0 | 81,3% |
| 135,8 | 81,2% |
| 135,6 | 81,1% |
| 135,4 | 81,0% |

| | |
|-------|-------|
| 135,2 | 80,9% |
| 135,0 | 80,7% |
| 134,8 | 80,6% |
| 134,6 | 80,5% |
| 134,4 | 80,4% |
| 134,2 | 80,3% |
| 134,0 | 80,1% |
| 133,8 | 80,0% |
| 133,6 | 79,9% |
| 133,4 | 79,8% |
| 133,2 | 79,7% |
| 133,0 | 79,5% |
| 132,8 | 79,4% |
| 132,6 | 79,3% |
| 132,4 | 79,2% |
| 132,2 | 79,1% |
| 132,0 | 78,9% |
| 131,8 | 78,8% |
| 131,6 | 78,7% |
| 131,4 | 78,6% |
| 131,2 | 78,5% |
| 131,0 | 78,3% |
| 130,8 | 78,2% |
| 130,6 | 78,1% |
| 130,4 | 78,0% |
| 130,2 | 77,9% |
| 130,0 | 77,7% |
| 129,8 | 77,6% |
| 129,6 | 77,5% |
| 129,4 | 77,4% |
| 129,2 | 77,3% |
| 129,0 | 77,1% |
| 128,8 | 77,0% |

| | |
|-------|-------|
| 128,6 | 76,9% |
| 128,4 | 76,8% |
| 128,2 | 76,7% |
| 128,0 | 76,5% |
| 127,8 | 76,4% |
| 127,6 | 76,3% |
| 127,4 | 76,2% |
| 127,2 | 76,1% |
| 127,0 | 76,0% |
| 126,8 | 75,8% |
| 126,6 | 75,7% |
| 126,4 | 75,6% |
| 126,2 | 75,5% |
| 126,0 | 75,4% |
| 125,8 | 75,2% |
| 125,6 | 75,1% |
| 125,4 | 75,0% |
| 125,2 | 74,9% |
| 125,0 | 74,8% |
| 124,8 | 74,6% |
| 124,6 | 74,5% |
| 124,4 | 74,4% |
| 124,2 | 74,3% |
| 124,0 | 74,2% |
| 123,8 | 74,0% |
| 123,6 | 73,9% |
| 123,4 | 73,8% |
| 123,2 | 73,7% |
| 123,0 | 73,6% |
| 122,8 | 73,4% |
| 122,6 | 73,3% |
| 122,4 | 73,2% |
| 122,2 | 73,1% |

| | |
|-------|-------|
| 122,0 | 73,0% |
| 121,8 | 72,8% |
| 121,6 | 72,7% |
| 121,4 | 72,6% |
| 121,2 | 72,5% |
| 121,0 | 72,4% |
| 120,8 | 72,2% |
| 120,6 | 72,1% |
| 120,4 | 72,0% |
| 120,2 | 71,9% |
| 120,0 | 71,8% |
| 119,8 | 71,6% |
| 119,6 | 71,5% |
| 119,4 | 71,4% |
| 119,2 | 71,3% |
| 119,0 | 71,2% |
| 118,8 | 71,0% |
| 118,6 | 70,9% |
| 118,4 | 70,8% |
| 118,2 | 70,7% |
| 118,0 | 70,6% |
| 117,8 | 70,4% |
| 117,6 | 70,3% |
| 117,4 | 70,2% |
| 117,2 | 70,1% |
| 117,0 | 70,0% |
| 116,8 | 69,8% |
| 116,6 | 69,7% |
| 116,4 | 69,6% |
| 116,2 | 69,5% |
| 116,0 | 69,4% |
| 115,8 | 69,3% |
| 115,6 | 69,1% |

| | |
|--------------|-------|
| 115,4 | 69,0% |
| 115,2 | 68,9% |
| 115,0 | 68,8% |
| 114,8 | 68,7% |
| 114,6 | 68,5% |
| 114,4 | 68,4% |
| 114,2 | 68,3% |
| 114,0 | 68,2% |
| 113,8 | 68,1% |
| 113,6 | 67,9% |
| 113,4 | 67,8% |
| 113,2 | 67,7% |
| 113,0 | 67,6% |
| 112,8 | 67,5% |
| 112,6 | 67,3% |
| 112,4 | 67,2% |
| 112,2 | 67,1% |
| 112,0 | 67,0% |
| 111,8 | 66,9% |
| 111,6 | 66,7% |
| 111,4 | 66,6% |
| 111,2 | 66,5% |
| 111,0 | 66,4% |
| 110,8 | 66,3% |
| 110,6 | 66,1% |
| 110,4 | 66,0% |
| 110,2 | 65,9% |
| 110,0 | 65,8% |
| 109,8 | 65,7% |
| 109,6 | 65,5% |
| 109,4 | 65,4% |
| 109,2 | 65,3% |
| 109,0 | 65,2% |

| | |
|--------------|-------|
| 108,8 | 65,1% |
| 108,6 | 64,9% |
| 108,4 | 64,8% |
| 108,2 | 64,7% |
| 108,0 | 64,6% |
| 107,8 | 64,5% |
| 107,6 | 64,3% |
| 107,4 | 64,2% |
| 107,2 | 64,1% |
| 107,0 | 64,0% |
| 106,8 | 63,9% |
| 106,6 | 63,7% |
| 106,4 | 63,6% |
| 106,2 | 63,5% |
| 106,0 | 63,4% |
| 105,8 | 63,3% |
| 105,6 | 63,1% |
| 105,4 | 63,0% |
| 105,2 | 62,9% |
| 105,0 | 62,8% |
| 104,8 | 62,7% |
| 104,6 | 62,6% |
| 104,4 | 62,4% |
| 104,2 | 62,3% |
| 104,0 | 62,2% |
| 103,8 | 62,1% |
| 103,6 | 62,0% |
| 103,4 | 61,8% |
| 103,2 | 61,7% |
| 103,0 | 61,6% |
| 102,8 | 61,5% |
| 102,6 | 61,4% |
| 102,4 | 61,2% |

| | |
|--------------|-------|
| 102,2 | 61,1% |
| 102,0 | 61,0% |
| 101,8 | 60,9% |
| 101,6 | 60,8% |
| 101,4 | 60,6% |
| 101,2 | 60,5% |
| 101,0 | 60,4% |
| 100,8 | 60,3% |
| 100,6 | 60,2% |
| 100,4 | 60,0% |
| 100,2 | 59,9% |
| 100,0 | 59,8% |
| 99,8 | 59,7% |
| 99,6 | 59,6% |
| 99,4 | 59,4% |
| 99,2 | 59,3% |
| 99,0 | 59,2% |
| 98,8 | 59,1% |
| 98,6 | 59,0% |
| 98,4 | 58,8% |
| 98,2 | 58,7% |
| 98,0 | 58,6% |
| 97,8 | 58,5% |
| 97,6 | 58,4% |
| 97,4 | 58,2% |
| 97,2 | 58,1% |
| 97,0 | 58,0% |
| 96,8 | 57,9% |
| 96,6 | 57,8% |
| 96,4 | 57,6% |
| 96,2 | 57,5% |
| 96,0 | 57,4% |
| 95,8 | 57,3% |

| | |
|-------------|-------|
| 95,6 | 57,2% |
| 95,4 | 57,0% |
| 95,2 | 56,9% |
| 95,0 | 56,8% |
| 94,8 | 56,7% |
| 94,6 | 56,6% |
| 94,4 | 56,4% |
| 94,2 | 56,3% |
| 94,0 | 56,2% |
| 93,8 | 56,1% |
| 93,6 | 56,0% |
| 93,4 | 55,9% |
| 93,2 | 55,7% |
| 93,0 | 55,6% |
| 92,8 | 55,5% |
| 92,6 | 55,4% |
| 92,4 | 55,3% |
| 92,2 | 55,1% |
| 92,0 | 55,0% |
| 91,8 | 54,9% |
| 91,6 | 54,8% |
| 91,4 | 54,7% |
| 91,2 | 54,5% |
| 91,0 | 54,4% |
| 90,8 | 54,3% |
| 90,6 | 54,2% |
| 90,4 | 54,1% |
| 90,2 | 53,9% |
| 90,0 | 53,8% |
| 89,8 | 53,7% |
| 89,6 | 53,6% |
| 89,4 | 53,5% |
| 89,2 | 53,3% |

| | |
|-------------|-------|
| 89,0 | 53,2% |
| 88,8 | 53,1% |
| 88,6 | 53,0% |
| 88,4 | 52,9% |
| 88,2 | 52,7% |
| 88,0 | 52,6% |
| 87,8 | 52,5% |
| 87,6 | 52,4% |
| 87,4 | 52,3% |
| 87,2 | 52,1% |
| 87,0 | 52,0% |
| 86,8 | 51,9% |
| 86,6 | 51,8% |
| 86,4 | 51,7% |
| 86,2 | 51,5% |
| 86,0 | 51,4% |
| 85,8 | 51,3% |
| 85,6 | 51,2% |
| 85,4 | 51,1% |
| 85,2 | 50,9% |
| 85,0 | 50,8% |
| 84,8 | 50,7% |
| 84,6 | 50,6% |
| 84,4 | 50,5% |
| 84,2 | 50,3% |
| 84,0 | 50,2% |
| 83,8 | 50,1% |
| 83,6 | 50,0% |
| 83,4 | 49,9% |
| 83,2 | 49,7% |
| 83,0 | 49,6% |
| 82,8 | 49,5% |
| 82,6 | 49,4% |

| | |
|-------------|-------|
| 82,4 | 49,3% |
| 82,2 | 49,2% |
| 82,0 | 49,0% |
| 81,8 | 48,9% |
| 81,6 | 48,8% |
| 81,4 | 48,7% |
| 81,2 | 48,6% |
| 81,0 | 48,4% |
| 80,8 | 48,3% |
| 80,6 | 48,2% |
| 80,4 | 48,1% |
| 80,2 | 48,0% |
| 80,0 | 47,8% |
| 79,8 | 47,7% |
| 79,6 | 47,6% |
| 79,4 | 47,5% |
| 79,2 | 47,4% |
| 79,0 | 47,2% |
| 78,8 | 47,1% |
| 78,6 | 47,0% |
| 78,4 | 46,9% |
| 78,2 | 46,8% |
| 78,0 | 46,6% |
| 77,8 | 46,5% |
| 77,6 | 46,4% |
| 77,4 | 46,3% |
| 77,2 | 46,2% |
| 77,0 | 46,0% |
| 76,8 | 45,9% |
| 76,6 | 45,8% |
| 76,4 | 45,7% |
| 76,2 | 45,6% |
| 76,0 | 45,4% |

| | |
|-------------|-------|
| 75,8 | 45,3% |
| 75,6 | 45,2% |
| 75,4 | 45,1% |
| 75,2 | 45,0% |
| 75,0 | 44,8% |
| 74,8 | 44,7% |
| 74,6 | 44,6% |
| 74,4 | 44,5% |
| 74,2 | 44,4% |
| 74,0 | 44,2% |
| 73,8 | 44,1% |
| 73,6 | 44,0% |
| 73,4 | 43,9% |
| 73,2 | 43,8% |
| 73,0 | 43,6% |
| 72,8 | 43,5% |
| 72,6 | 43,4% |
| 72,4 | 43,3% |
| 72,2 | 43,2% |
| 72,0 | 43,0% |
| 71,8 | 42,9% |
| 71,6 | 42,8% |
| 71,4 | 42,7% |
| 71,2 | 42,6% |
| 71,0 | 42,5% |
| 70,8 | 42,3% |
| 70,6 | 42,2% |
| 70,4 | 42,1% |
| 70,2 | 42,0% |
| 70,0 | 41,9% |
| 69,8 | 41,7% |
| 69,6 | 41,6% |
| 69,4 | 41,5% |

| | |
|-------------|-------|
| 69,2 | 41,4% |
| 69,0 | 41,3% |
| 68,8 | 41,1% |
| 68,6 | 41,0% |
| 68,4 | 40,9% |
| 68,2 | 40,8% |
| 68,0 | 40,7% |
| 67,8 | 40,5% |
| 67,6 | 40,4% |
| 67,4 | 40,3% |
| 67,2 | 40,2% |
| 67,0 | 40,1% |
| 66,8 | 39,9% |
| 66,6 | 39,8% |
| 66,4 | 39,7% |
| 66,2 | 39,6% |
| 66,0 | 39,5% |
| 65,8 | 39,3% |
| 65,6 | 39,2% |
| 65,4 | 39,1% |
| 65,2 | 39,0% |
| 65,0 | 38,9% |
| 64,8 | 38,7% |
| 64,6 | 38,6% |
| 64,4 | 38,5% |
| 64,2 | 38,4% |
| 64,0 | 38,3% |
| 63,8 | 38,1% |
| 63,6 | 38,0% |
| 63,4 | 37,9% |
| 63,2 | 37,8% |
| 63,0 | 37,7% |
| 62,8 | 37,5% |

| | |
|-------------|--------------|
| 62,6 | 37,4% |
| 62,4 | 37,3% |
| 62,2 | 37,2% |
| 62,0 | 37,1% |
| 61,8 | 36,9% |
| 61,6 | 36,8% |
| 61,4 | 36,7% |
| 61,2 | 36,6% |
| 61,0 | 36,5% |
| 60,8 | 36,3% |
| 60,6 | 36,2% |
| 60,4 | 36,1% |
| 60,2 | 36,0% |
| 60,0 | 35,9% |
| 59,8 | 35,8% |
| 59,6 | 35,6% |
| 59,4 | 35,5% |
| 59,2 | 35,4% |
| 59,0 | 35,3% |
| 58,8 | 35,2% |
| 58,6 | 35,0% |
| 58,4 | 34,9% |
| 58,2 | 34,8% |
| 58,0 | 34,7% |
| 57,8 | 34,6% |
| 57,6 | 34,4% |
| 57,4 | 34,3% |
| 57,2 | 34,2% |
| 57,0 | 34,1% |
| 56,8 | 34,0% |
| 56,6 | 33,8% |
| 56,4 | 33,7% |
| 56,2 | 33,6% |

| | |
|-------------|--------------|
| 56,0 | 33,5% |
| 55,8 | 33,4% |
| 55,6 | 33,2% |
| 55,4 | 33,1% |
| 55,2 | 33,0% |
| 55,0 | 32,9% |
| 54,8 | 32,8% |
| 54,6 | 32,6% |
| 54,4 | 32,5% |
| 54,2 | 32,4% |
| 54,0 | 32,3% |
| 53,8 | 32,2% |
| 53,6 | 32,0% |
| 53,4 | 31,9% |
| 53,2 | 31,8% |
| 53,0 | 31,7% |
| 52,8 | 31,6% |
| 52,6 | 31,4% |
| 52,4 | 31,3% |
| 52,2 | 31,2% |
| 52,0 | 31,1% |
| 51,8 | 31,0% |
| 51,6 | 30,8% |
| 51,4 | 30,7% |
| 51,2 | 30,6% |
| 51,0 | 30,5% |
| 50,8 | 30,4% |
| 50,6 | 30,2% |
| 50,4 | 30,1% |
| 50,2 | 30,0% |
| 50,0 | 29,9% |
| 49,8 | 29,8% |
| 49,6 | 29,6% |

| | |
|-------------|-------|
| 49,4 | 29,5% |
| 49,2 | 29,4% |
| 49,0 | 29,3% |
| 48,8 | 29,2% |
| 48,6 | 29,1% |
| 48,4 | 28,9% |
| 48,2 | 28,8% |
| 48,0 | 28,7% |
| 47,8 | 28,6% |
| 47,6 | 28,5% |
| 47,4 | 28,3% |
| 47,2 | 28,2% |
| 47,0 | 28,1% |
| 46,8 | 28,0% |
| 46,6 | 27,9% |
| 46,4 | 27,7% |
| 46,2 | 27,6% |
| 46,0 | 27,5% |
| 45,8 | 27,4% |
| 45,6 | 27,3% |
| 45,4 | 27,1% |
| 45,2 | 27,0% |
| 45,0 | 26,9% |
| 44,8 | 26,8% |
| 44,6 | 26,7% |
| 44,4 | 26,5% |
| 44,2 | 26,4% |
| 44,0 | 26,3% |
| 43,8 | 26,2% |
| 43,6 | 26,1% |
| 43,4 | 25,9% |
| 43,2 | 25,8% |
| 43,0 | 25,7% |

| | |
|-------------|-------|
| 42,8 | 25,6% |
| 42,6 | 25,5% |
| 42,4 | 25,3% |
| 42,2 | 25,2% |
| 42,0 | 25,1% |
| 41,8 | 25,0% |
| 41,6 | 24,9% |
| 41,4 | 24,7% |
| 41,2 | 24,6% |
| 41,0 | 24,5% |
| 40,8 | 24,4% |
| 40,6 | 24,3% |
| 40,4 | 24,1% |
| 40,2 | 24,0% |
| 40,0 | 23,9% |
| 39,8 | 23,8% |
| 39,6 | 23,7% |
| 39,4 | 23,5% |
| 39,2 | 23,4% |
| 39,0 | 23,3% |
| 38,8 | 23,2% |
| 38,6 | 23,1% |
| 38,4 | 22,9% |
| 38,2 | 22,8% |
| 38,0 | 22,7% |
| 37,8 | 22,6% |
| 37,6 | 22,5% |
| 37,4 | 22,3% |
| 37,2 | 22,2% |
| 37,0 | 22,1% |
| 36,8 | 22,0% |
| 36,6 | 21,9% |
| 36,4 | 21,8% |

| | |
|-------------|-------|
| 36,2 | 21,6% |
| 36,0 | 21,5% |
| 35,8 | 21,4% |
| 35,6 | 21,3% |
| 35,4 | 21,2% |
| 35,2 | 21,0% |
| 35,0 | 20,9% |
| 34,8 | 20,8% |
| 34,6 | 20,7% |
| 34,4 | 20,6% |
| 34,2 | 20,4% |
| 34,0 | 20,3% |
| 33,8 | 20,2% |
| 33,6 | 20,1% |
| 33,4 | 20,0% |
| 33,2 | 19,8% |
| 33,0 | 19,7% |
| 32,8 | 19,6% |
| 32,6 | 19,5% |
| 32,4 | 19,4% |
| 32,2 | 19,2% |
| 32,0 | 19,1% |
| 31,8 | 19,0% |
| 31,6 | 18,9% |
| 31,4 | 18,8% |
| 31,2 | 18,6% |
| 31,0 | 18,5% |
| 30,8 | 18,4% |
| 30,6 | 18,3% |
| 30,4 | 18,2% |
| 30,2 | 18,0% |
| 30,0 | 17,9% |
| 29,8 | 17,8% |

| | |
|-------------|-------|
| 29,6 | 17,7% |
| 29,4 | 17,6% |
| 29,2 | 17,4% |
| 29,0 | 17,3% |
| 28,8 | 17,2% |
| 28,6 | 17,1% |
| 28,4 | 17,0% |
| 28,2 | 16,8% |
| 28,0 | 16,7% |
| 27,8 | 16,6% |
| 27,6 | 16,5% |
| 27,4 | 16,4% |
| 27,2 | 16,2% |
| 27,0 | 16,1% |
| 26,8 | 16,0% |
| 26,6 | 15,9% |
| 26,4 | 15,8% |
| 26,2 | 15,6% |
| 26,0 | 15,5% |
| 25,8 | 15,4% |
| 25,6 | 15,3% |
| 25,4 | 15,2% |
| 25,2 | 15,1% |
| 25,0 | 14,9% |
| 24,8 | 14,8% |
| 24,6 | 14,7% |
| 24,4 | 14,6% |
| 24,2 | 14,5% |
| 24,0 | 14,3% |
| 23,8 | 14,2% |
| 23,6 | 14,1% |
| 23,4 | 14,0% |
| 23,2 | 13,9% |

| | |
|-------------|-------|
| 23,0 | 13,7% |
| 22,8 | 13,6% |
| 22,6 | 13,5% |
| 22,4 | 13,4% |
| 22,2 | 13,3% |
| 22,0 | 13,1% |
| 21,8 | 13,0% |
| 21,6 | 12,9% |
| 21,4 | 12,8% |
| 21,2 | 12,7% |
| 21,0 | 12,5% |
| 20,8 | 12,4% |
| 20,6 | 12,3% |
| 20,4 | 12,2% |
| 20,2 | 12,1% |
| 20,0 | 11,9% |
| 19,8 | 11,8% |
| 19,6 | 11,7% |
| 19,4 | 11,6% |
| 19,2 | 11,5% |
| 19,0 | 11,3% |
| 18,8 | 11,2% |
| 18,6 | 11,1% |
| 18,4 | 11,0% |
| 18,2 | 10,9% |
| 18,0 | 10,7% |
| 17,8 | 10,6% |
| 17,6 | 10,5% |
| 17,4 | 10,4% |
| 17,2 | 10,3% |
| 17,0 | 10,1% |
| 16,8 | 10,0% |
| 16,6 | 9,9% |

| | |
|-------------|------|
| 16,4 | 9,8% |
| 16,2 | 9,7% |
| 16,0 | 9,5% |
| 15,8 | 9,4% |
| 15,6 | 9,3% |
| 15,4 | 9,2% |
| 15,2 | 9,1% |
| 15,0 | 8,9% |
| 14,8 | 8,8% |
| 14,6 | 8,7% |
| 14,4 | 8,6% |
| 14,2 | 8,5% |
| 14,0 | 8,4% |
| 13,8 | 8,2% |
| 13,6 | 8,1% |
| 13,4 | 8,0% |
| 13,2 | 7,9% |
| 13,0 | 7,8% |
| 12,8 | 7,6% |
| 12,6 | 7,5% |
| 12,4 | 7,4% |
| 12,2 | 7,3% |
| 12,0 | 7,2% |
| 11,8 | 7,0% |
| 11,6 | 6,9% |
| 11,4 | 6,8% |
| 11,2 | 6,7% |
| 11,0 | 6,6% |
| 10,8 | 6,4% |
| 10,6 | 6,3% |
| 10,4 | 6,2% |
| 10,2 | 6,1% |
| 10,0 | 6,0% |

| | |
|------------|-------------|
| 9,8 | 5,8% |
| 9,6 | 5,7% |
| 9,4 | 5,6% |
| 9,2 | 5,5% |
| 9,0 | 5,4% |
| 8,8 | 5,2% |
| 8,6 | 5,1% |
| 8,4 | 5,0% |
| 8,2 | 4,9% |
| 8,0 | 4,8% |
| 7,8 | 4,6% |
| 7,6 | 4,5% |
| 7,4 | 4,4% |
| 7,2 | 4,3% |
| 7,0 | 4,2% |
| 6,8 | 4,0% |
| 6,6 | 3,9% |
| 6,4 | 3,8% |
| 6,2 | 3,7% |
| 6,0 | 3,6% |
| 5,8 | 3,4% |
| 5,6 | 3,3% |
| 5,4 | 3,2% |
| 5,2 | 3,1% |
| 5,0 | 3,0% |
| 4,8 | 2,8% |
| 4,6 | 2,7% |
| 4,4 | 2,6% |
| 4,2 | 2,5% |
| 4,0 | 2,4% |
| 3,8 | 2,2% |
| 3,6 | 2,1% |
| 3,4 | 2,0% |

| | |
|------------|-------------|
| 3,2 | 1,9% |
| 3,0 | 1,8% |
| 2,8 | 1,7% |
| 2,6 | 1,5% |
| 2,4 | 1,4% |
| 2,2 | 1,3% |
| 2,0 | 1,2% |
| 1,8 | 1,1% |
| 1,6 | 0,9% |
| 1,4 | 0,8% |
| 1,2 | 0,7% |
| 1,0 | 0,6% |
| 0,8 | 0,5% |
| 0,6 | 0,3% |
| 0,4 | 0,2% |
| 0,2 | 0,1% |

Vraag-identificatiecodes

Deze identifiers kunnen worden gebruikt om de precieze vraag in de vragenbanken te identificeren. Gebruik deze code in combinatie met de documentcode wanneer u feedback doorgeeft, zodat precies duidelijk is op welke vraag en -versie uw feedback van toepassing is.

Documentidentificatiecode: 1620-846

| Vraagnummer | Vraag-identificatiecode | Versie-identificatiecode |
|-------------|-------------------------|--------------------------------------|
| 1 | 63859 | 3e7c094a-2e5a-439a-8178-070c1a2f9676 |
| 2 | 64045 | b08e8a78-f5c5-419f-b426-fea141988b22 |
| 3 | 64032 | 60875cc7-c346-49a9-a6d7-2426ad01da51 |
| 4 | 64050 | e3b65a57-9543-4045-82c5-27f456296e15 |
| 5 | 63970 | 5d674b4b-fb67-4a02-bd88-48e9aaef2cc |
| 6 | 63860 | ee12f3a4-8cfe-4fb6-b185-8d986206649e |
| 7 | 63855 | f696dfdf-7d38-46b1-bbf4-00421efdef79 |
| 8 | 63757 | f8f2e845-b89f-474d-b4cf-76035f945f6b |
| 9 | 41484 | d74dd2c2-9e63-4f6c-b7eb-30b5735a2b0c |
| 10 | 40704 | cdbcc040-174d-4d7a-91c8-be300794f881 |
| 11 | 40714 | bc754503-13fb-4e93-b47f-b4826858c8c7 |
| 12 | 63849 | b2f4165a-57d0-47b0-b15c-d0311f5cc227 |
| 13 | 64049 | 30d43024-c6a5-4228-b433-ff7a7472120c |
| 14 | 64033 | 3f603b2e-d8d8-4c2c-adf0-86cc78883e58 |
| 15 | 63858 | 05d9a735-264f-4f03-b23b-af86e6ab26aa |
| 16 | 39963 | a2e58d3d-f0f5-45c8-8789-4255a01ae61b |
| 17 | 64036 | 23ab0baf-c23d-4473-8235-acbc96695392 |
| 18 | 64028 | 46f4f784-a7b1-4a1b-ae68-1e38cbcb649e |
| 19 | 63972 | fa980af1-4eb1-4342-a0f0-eccf5569fa80 |
| 20 | 64040 | 347f6cb8-ffb9-4d0b-8fab-58fb48ceee0f |
| 21 | 60977 | 8b06fd5e-0e72-4f01-b921-c8854757f8bc |
| 22 | 64068 | d694e885-8159-4fb1-b095-cf3fe2dbadb5 |
| 23 | 64029 | 958eadfd-873b-42f0-a0b7-aa6ebeaa0cc6 |
| 24 | 64353 | a4a1e082-cfad-4291-b747-b5292ebe6a0c |
| 25 | 63848 | d3b78e56-3558-4a7b-ad78-52d67c1219e8 |
| 26 | 63733 | 641cb7d0-402c-45f6-b893-ac07267b2db6 |
| 27 | 64027 | bb204ade-1694-4a9e-9eac-179aad43c3d7 |

| | | |
|----|-------|--------------------------------------|
| 28 | 64066 | 1aed7471-96ab-4f6e-9538-723c0c5e621b |
| 29 | 64034 | a2e01501-bac4-472e-8aee-ed5e38dea2fa |
| 30 | 64031 | cb3546d9-5e20-4619-84bd-591bc6a1c288 |
| 31 | 63851 | feb2de62-63b2-4cfb-bc1d-6e9fc9f6a459 |
| 32 | 63861 | 6cad5685-a386-4651-8446-0e6a207dde6b |
| 33 | 64038 | ebd18da2-a33f-489a-9a11-6e05f2166b90 |
| 34 | 63732 | bbd17e52-4869-409a-8aa3-5c2c37e8cc39 |
| 35 | 63850 | 745a5f6e-9726-47f8-9182-6731e182def4 |
| 36 | 40709 | 038d758b-ba32-45e8-b5a8-b87b22ec0272 |
| 37 | 63973 | cf7316a9-8dad-4e39-aa79-e65ce6e1d00f |
| 38 | 63716 | d6554be5-3c6e-4abe-89cc-fcdb38a024fc |
| 39 | 15117 | 9aa24db0-236a-439c-a718-37865eb55c89 |
| 40 | 63865 | f609a202-05a6-4e3d-99ef-7f0f8226ad58 |
| 41 | 63856 | aeaa8ee8-5062-4b3d-84f0-497a9f1cac1b |
| 42 | 64025 | 01c6aa21-2d46-41bb-9bd4-588196f60722 |
| 43 | 64048 | 12519f67-e9f3-4095-b410-e72352aa60be |
| 44 | 63854 | ee141ef2-ea4d-4f97-8d0b-e137ea77543a |
| 45 | 63975 | a75ad767-5ce0-40b8-9ad8-1c5d859b94f0 |
| 46 | 64024 | acebce7d-7b7f-4a41-80e5-7d450dc0ecff |
| 47 | 64026 | 884c21d7-da09-4a3a-916e-46609c93cb47 |
| 48 | 64023 | 2b12fe04-f6ce-4d6c-abd8-d3de39e2ddba |
| 49 | 61489 | c15a7356-4a9d-40e7-a083-dc6b0baafec2 |
| 50 | 63968 | d26160c5-c980-4b86-a24f-8dc98da84ef9 |
| 51 | 63951 | 97f93091-d7fb-4952-86c5-92ad94896a91 |
| 52 | 63950 | 4188edb4-010f-4444-b3ea-de6d2b5cbc45 |
| 53 | 63880 | fa5c577d-9e14-4ef4-81ad-8cb8eb46cb6d |
| 54 | 63946 | 44621e2d-961c-4a5b-b75b-7f8559408d94 |
| 55 | 63966 | 99dc8306-84d8-4fce-bd37-26c150346cc0 |
| 56 | 63949 | 952cad02-0874-4def-8365-66b4bd748c5e |
| 57 | 63948 | f4b33a79-8c18-4d1e-8436-c2841a14d509 |
| 58 | 63952 | c2c17aba-eca1-40ea-bdec-4145ed98142f |
| 59 | 63964 | c0368642-af50-454d-8ba1-d04a2cca3027 |
| 60 | 63982 | b703a77b-c91a-4864-97b3-554cc28b17e4 |
| 61 | 63971 | 87dec547-2100-4525-a101-b175c795f6b7 |

| | | |
|----|-------|--------------------------------------|
| 62 | 63944 | c8f7ae1e-8266-41e4-984c-79f18036f20f |
| 63 | 63945 | 5cef5a7e-c78d-4925-be66-df5ff829a357 |
| 64 | 63960 | 6f3f2d81-b4cf-474e-aa17-304c30caf46e |
| 65 | 63680 | c520cbce-7ecc-4199-adb7-87020a566f07 |
| 66 | 63954 | 67382327-54dc-4aa5-9fb7-d1b3312632d7 |
| 67 | 63692 | c6310ab6-b047-47d8-8aba-f8ba70ff16a3 |
| 68 | 63669 | 14eeea45-dc05-4ec5-a13c-a0c556b9aac9 |
| 69 | 63937 | 7c3f4761-cbce-4179-96bb-0efebf9ba992 |
| 70 | 63991 | b248431b-f2fd-468a-b84f-e3bfcf1d504c |
| 71 | 63681 | cd84333a-69f9-4d12-8f67-91b9d2f18cbf |
| 72 | 64015 | 53727f52-272d-4718-918e-5c848222f236 |
| 73 | 63987 | f959c745-087c-4a21-8cac-367b7ca6edb8 |
| 74 | 61467 | bbca7530-aa9a-4245-bb0f-01c7266d5ecb |
| 75 | 63672 | 7608880f-c158-44d5-b790-f9d2082abdbd |
| 76 | 61520 | d3d7205b-d5ef-42d6-87b6-acee3fdb7377 |
| 77 | 63903 | 38dcfc22-e665-4526-b2f9-5dae2e826f82 |
| 78 | 64327 | 06eaa43e-f731-4519-ab85-bc6c209ffebb |
| 79 | 61639 | b6b797be-30ff-4671-94d0-0b22ec940b06 |
| 80 | 63956 | 191ba004-5054-4739-85c2-954e7dc05a87 |
| 81 | 63902 | 5a26116e-e783-4e64-9141-e650320af521 |
| 82 | 40224 | 479db09f-0ca3-4510-8a54-6b67e44d0088 |
| 83 | 63904 | c98780d0-265f-4522-b9bc-92bea6a77c86 |
| 84 | 63901 | 990b57c8-2fac-423f-8ebd-49159cec041b |
| 85 | 63961 | bfde2737-c793-4b63-ba30-2024cd7f32ee |
| 86 | 63899 | e502460d-a268-4a1a-8414-3462988b6544 |
| 87 | 63905 | 2f050d53-c26c-4387-9b56-175e9186427c |
| 88 | 16937 | 63f307cc-e32a-4ce3-b430-9de10bd7fea3 |
| 89 | 63981 | 779ab2ab-0d0a-4d86-ae57-31b4e1e77bdf |
| 90 | 63684 | 3b6a75bb-af4e-46e7-8d62-d5959f61808b |
| 91 | 63963 | 90f151cc-73fc-45b8-94b6-7a8e7b07f89c |
| 92 | 63920 | ac8ab707-3d49-48ba-b6fc-543a756e4b70 |
| 93 | 63919 | b5710811-8f71-477d-bb4d-03200671af41 |
| 94 | 63685 | a04500a6-3bcf-4a46-8600-cd4205ffe6d8 |
| 95 | 63976 | 9650193b-ac41-41b9-a2f3-edef52f13bc8 |

| | | |
|-----|-------|--------------------------------------|
| 96 | 61466 | b37c29db-484d-4256-b80f-8534ecad583a |
| 97 | 63683 | 36e70bce-17db-457a-8606-5498993d544d |
| 98 | 63965 | 3f09f8d7-d771-4ac7-a19b-f5c8ba3ec58f |
| 99 | 40299 | 1eb3679c-28de-450a-b62b-327f9026dfd3 |
| 100 | 63974 | e4825fdb-f7d4-405a-9495-bf71367a5869 |
| 101 | 63907 | c905c3ad-ba86-417a-9075-4875a679cdab |
| 102 | 63670 | b820aa5e-e534-4e43-b97a-316bc4856d1e |
| 103 | 63962 | ee6a6024-7cf1-42d9-9a74-cf1c0bd1dcad |
| 104 | 63682 | d1daa17a-9581-4869-92a5-59f450e6f778 |
| 105 | 16572 | a923d5aa-6451-446a-a46c-c75c2e53e2ab |
| 106 | 63908 | d5ddb936-a706-4499-a9c9-4d177a298c02 |
| 107 | 63953 | 6a315492-5b19-4560-ab62-55e461aa36eb |
| 108 | 63941 | d6773fec-3b90-4b5f-b886-d29c61633d6e |
| 109 | 63906 | e6555c52-e6bc-4fd0-970b-da585ab9a4d6 |
| 110 | 63943 | 9c94afe0-0917-4be9-a1f9-9f8620d133bd |
| 111 | 40809 | 29513943-610b-43f6-8a16-89bc72e13a46 |
| 112 | 64320 | b16a8dfa-545f-4791-9f71-a2a32050abab |
| 113 | 63891 | 91a8a06a-b51a-4a69-97b5-8ace8dea9c84 |
| 114 | 63894 | 0bcab801-387f-49a0-a983-fcd8adbf9ab6 |
| 115 | 63893 | 2a4cc646-36d3-4b77-bc5f-ec7794bce0a7 |
| 116 | 63898 | 1fb4b71d-fc12-422d-8773-f55d987f9d43 |
| 117 | 63942 | 4ebd40e9-87a5-45a8-acde-7ba9821dbbc2 |
| 118 | 61666 | 145e449b-3148-426f-aeaa-783f53402a62 |
| 119 | 64464 | bf347b35-44af-4edd-a465-c3990fa5eb8e |
| 120 | 63930 | 6e3cc905-e719-43fc-8e17-5ed6b803767f |
| 121 | 63933 | b51b0639-78fb-4358-a39c-c2af73f51854 |
| 122 | 64412 | dbf62fac-420d-4da6-ba53-cab5ad93c300 |
| 123 | 63887 | f9776544-60b2-4c32-a3a3-9c4ccde0648c |
| 124 | 63889 | 289ab4d9-cf55-4cb4-a5c7-b032bb7db029 |
| 125 | 63888 | 2e296fa5-bf80-4f7c-8a6c-4270ae789f17 |
| 126 | 64410 | 8d055ecf-0c05-492b-bdd9-a8ce8d4e7d54 |
| 127 | 63940 | 40efdf11-f9ed-4f60-a350-c40fe3c9f6f5 |
| 128 | 60752 | 4be05802-f72e-4521-b23d-9c22c66809a0 |
| 129 | 61541 | 6acf205c-a70e-4109-9ad6-828f6bb383f8 |

| | | |
|-----|-------|--------------------------------------|
| 130 | 63867 | 1dab85d1-4cf1-47be-8554-3f4d7484108c |
| 131 | 64317 | f450dff9-d3ba-40e9-b674-c8109dd7eb19 |
| 132 | 64315 | 15adff3d-062d-480a-ad9b-22a8e55c021c |
| 133 | 64052 | ac473b5a-4182-445d-8f48-ac5a5e2a0827 |
| 134 | 41784 | 2c01e8c0-734d-44ab-9dc9-a0cd5160ea44 |
| 135 | 63868 | 70ebf990-9e28-45e8-9ce1-cedc5c68b5f2 |
| 136 | 64319 | 97a99600-7530-498f-8f39-232826780c2f |
| 137 | 63921 | 071c013d-84c5-4d93-9174-bf98420e7bdc |
| 138 | 64010 | cdd7125c-3fe0-4a22-96b3-efdbf7647c1d |
| 139 | 64022 | 293e634f-0572-495e-a081-cae9f1486676 |
| 140 | 64013 | c807c217-9f30-4d85-a473-8b087743aead |
| 141 | 63869 | 0e38ef9a-b6be-444a-bfaf-db8fce452d1a |
| 142 | 41774 | af65c9a3-7ff0-4790-99eb-0f96db13a7e1 |
| 143 | 64012 | 78602e16-c8ce-45ba-9b24-25c027081d36 |
| 144 | 63866 | f29c7c3b-d6d5-41b1-ba09-0c7484719e86 |
| 145 | 64046 | 137a0781-d990-4aad-9867-0b8c8d7f8b7c |
| 146 | 63872 | 0c539f56-4183-4bac-94c9-16653b118f9c |
| 147 | 63574 | df1dedc8-3dc8-4d11-a4a7-1028ed9f2fa2 |
| 148 | 61545 | 6a837017-94f9-4cdc-ac93-7b23129223db |
| 149 | 63870 | 60456ee4-7566-45ad-9ade-1b11e060bf68 |
| 150 | 63693 | 179b13c7-31b8-4658-b500-b336b150f73f |
| 151 | 61287 | 86827ab8-123a-4694-9c20-8394f2e98f9d |
| 152 | 63577 | 3f6c4744-6c93-466a-968c-eae681c5edbc |
| 153 | 64009 | 5a1687e8-a442-436f-bb54-21bcfe19907b |
| 154 | 64008 | bd2b8f7d-e05b-421c-9fdb-07c55cd73158 |
| 155 | 64016 | 2852e029-7b67-46e1-8b06-d2d2076cee6c |
| 156 | 63993 | e5963275-555f-48a2-ae9b-766a54fd124c |